



Kementerian Pendidikan dan Kebudayaan  
Direktorat Jenderal PAUD, Pendidikan Dasar, dan Pendidikan Menengah  
Direktorat Pendidikan Masyarakat dan Pendidikan Khusus  
Tahun 2020

# Dimana Kita?

ILMU PENGETAHUAN SOSIAL (IPS)  
PAKET B SETARA SMP/MTs KELAS IX



MODUL  
TEMA 11



Kementerian Pendidikan dan Kebudayaan  
Direktorat Jenderal PAUD, Pendidikan Dasar, dan Pendidikan Menengah  
Direktorat Pendidikan Masyarakat dan Pendidikan Khusus  
Tahun 2020

# Dimana Kita?

ILMU PENGETAHUAN SOSIAL (IPS)  
PAKET B SETARA SMP/MTs KELAS IX



MODUL  
TEMA 11

- **Penulis:** Sulaiman Hasan, S.Pd.,M.Pd.; Dra. Siti Fatonah; Aminullah,S.Pd., M.A.
- **Editor:** Dr. Samto; Dr. Subi Sudarto  
Dra. Maria Listiyanti; Dra. Suci Paresti, M.Pd.; Apriyanti Wulandari, M.Pd.
- **Diterbitkan oleh:** Direktorat Pendidikan Masyarakat dan Pendidikan Khusus–Direktorat Jenderal Pendidikan Anak Usia Dini, Pendidikan Dasar, dan Pendidikan Menengah–Kementerian Pendidikan dan Kebudayaan

iv+ 64 hlm + ilustrasi + foto; 21 x 28,5 cm

**Modul Dinamis:** Modul ini merupakan salah satu contoh bahan ajar pendidikan kesetaraan yang berbasis pada kompetensi inti dan kompetensi dasar dan didesain sesuai kurikulum 2013. Sehingga modul ini merupakan dokumen yang bersifat dinamis dan terbuka lebar sesuai dengan kebutuhan dan kondisi daerah masing-masing, namun merujuk pada tercapainya standar kompetensi dasar.

## Kata Pengantar

Pendidikan kesetaraan sebagai pendidikan alternatif memberikan layanan kepada masyarakat yang karena kondisi geografis, sosial budaya, ekonomi dan psikologis tidak berkesempatan mengikuti pendidikan dasar dan menengah di jalur pendidikan formal. Kurikulum pendidikan kesetaraan dikembangkan mengacu pada kurikulum 2013 pendidikan dasar dan menengah hasil revisi berdasarkan peraturan Mendikbud No.24 tahun 2016. Proses adaptasi kurikulum 2013 ke dalam kurikulum pendidikan kesetaraan adalah melalui proses kontekstualisasi dan fungsionalisasi dari masing-masing kompetensi dasar, sehingga peserta didik memahami makna dari setiap kompetensi yang dipelajari.

Pembelajaran pendidikan kesetaraan menggunakan prinsip flexible learning sesuai dengan karakteristik peserta didik kesetaraan. Penerapan prinsip pembelajaran tersebut menggunakan sistem pembelajaran modular dimana peserta didik memiliki kebebasan dalam penyelesaian tiap modul yang di sajikan. Konsekuensi dari sistem tersebut adalah perlunya disusun modul pembelajaran pendidikan kesetaraan yang memungkinkan peserta didik untuk belajar dan melakukan evaluasi ketuntasan secara mandiri.

Tahun 2017 Direktorat Pembinaan Pendidikan Keaksaraan dan Kesetaraan, Direktorat Jendral Pendidikan Anak Usia Dini dan Pendidikan Masyarakat mengembangkan modul pembelajaran pendidikan kesetaraan dengan melibatkan Pusat Kurikulum dan Perbukuan Kemdikbud, para akademisi, pamong belajar, guru dan tutor pendidikan kesetaraan. Modul pendidikan kesetaraan disediakan mulai paket A tingkat kompetensi 2 (kelas 4 Paket A). Sedangkan untuk peserta didik Paket A usia sekolah, modul tingkat kompetensi 1 (Paket A setara SD kelas 1-3) menggunakan buku pelajaran Sekolah Dasar kelas 1-3, karena mereka masih memerlukan banyak bimbingan guru/tutor dan belum bisa belajar secara mandiri.

Kami mengucapkan terimakasih atas partisipasi dari Pusat Kurikulum dan Perbukuan Kemdikbud, para akademisi, pamong belajar, guru, tutor pendidikan kesetaraan dan semua pihak yang telah berpartisipasi dalam penyusunan modul ini.

Jakarta, 1 Juli 2020  
Plt. Direktur Jenderal



Hamid Muhammad

## Daftar Isi

Kata Pengantar .....	iii
Daftar Isi.....	iv
<b>MODUL 11 DIMANA KITA?.....</b>	<b>1</b>
Petunjuk Penggunaan Modul.....	1
Tujuan Mempelajari Modul.....	2
Pengantar Modul.....	2
<b>UNIT 1 WARNA-WARNI DUNIA KITA .....</b>	<b>4</b>
A. Benua Asia.....	5
B. Benua Eropa .....	10
C. Benua Afrika.....	14
D. Benua Amerika.....	18
E. Benua Australia .....	22
F. Benua Antartika.....	24
Penugasan 1.....	26
Latihan Soal 1 .....	28
<b>UNIT 2 ASIA JAYA.....</b>	<b>30</b>
A. Jepang .....	30
B. Tiongkok / People's Republic of China .....	33
C. India.....	38
D. Arab Saudi .....	43
Penugasan 2.....	46
Latihan Soal 21 .....	47
Rangkuman.....	49
Kunci Jawaban, Pembahasan, dan Rubrik Penilaian .....	50
Kriteria Pindah Modul.....	59
Saran Referensi .....	60
Daftar Pustaka .....	61
Tentang Penulis .....	62



## Petunjuk Penggunaan Modul

Modul ini terdiri dari beberapa materi yang disusun secara berurutan mulai dari unit 1 dan unit 2. Pembahasan setiap unit merupakan satu kesatuan untuk dapat memahami modul secara baik. Anda perlu mengikuti petunjuk berikut untuk mempelajari modul.

1. Bacalah pengantar modul untuk mengetahui materi modul secara utuh!
2. Membaca tujuan yang diharapkan setelah mempelajari modul.
3. Mempelajari modul secara berurutan agar memperoleh pemahaman yang utuh.
4. Melakukan semua penugasan yang ada pada modul untuk mendapatkan pemahaman mengenai materi modul dengan baik.
5. Melakukan penilaian pemahaman dengan mengisi soal-soal Latihan yang disediakan di akhir modul
6. Anda dapat melanjutkan ke modul berikutnya bila hasil penilaian latihan soal Anda memiliki rerata skor minimal 75.

7. Bila ada kesulitan untuk memahami materi modul, Anda dapat meminta bantuan teman, tutor, atau orang yang Anda anggap dapat memberikan penjelasan lebih baik daripada modul kepada Anda.
8. Selamat membaca dan mempelajari modul.

## Tujuan Mempelajari Modul

Setelah membaca dan mempelajari modul ini, secara umum Anda diharapkan dapat:

1. Menemutunjukkan persebaran benua di dunia melalui peta dan menjelaskan karakteristik dari masing-masing benua serta pengaruh perbedaan karakteristik tersebut dalam kehidupan sehari-hari.
2. Mengidentifikasi karakteristik negara-negara maju di Asia dan dapat membandingkan dengan kondisi di Indonesia, serta dari membandingkan tersebut, Anda diharapkan dapat memprediksikan potensi Indonesia untuk menjadi negara maju seperti negara-negara di Asia tersebut.

## Pengantar Modul

Pernahkah kalian pergi keluar negeri? Atau melihat informasi mengenai luar negeri? Atau membayangkan kondisi luar negeri seperti apa. Pasti yang ada di benak kalian adalah banyak perbedaan dengan tempat tinggal kita, mulai iklim, perairan, tanah, flora dan fauna, bahkan penduduknya juga memiliki perbedaan dengan kita sebagai penduduk Indonesia. Pada modul ini kita akan belajar mengenai perbedaan-perbedaan tersebut dilihat dari letak dari suatu benua dan negara di dalamnya. Ternyata setiap benua di dunia memiliki karakteristik yang berbeda-beda. Baik perbedaan fisik berupa iklim, geologi, dan sumber daya alam yang ada, serta perbedaan non fisik seperti manusia yang menempati benua tersebut, kegiatan ekonomi dan sebagainya. Untuk lebih jelasnya, akan di bahas pada modul ini.

Modul yang berjudul “Dimana Kita” diharapkan dapat memberikan cara pandang baru bagi Anda. Tempat dimana kita berdiri dan hidup memiliki sejuta potensi yang wajib membuat kita bangga dan segera berbenah diri agar mampu mengelolanya dengan baik.

Modul ini menjelaskan di bagian bumi mana kita hidup dan apa saja yang dimiliki tanah kita yang membuatnya istimewa dibandingkan dengan negara lain serta membuat kita memiliki potensi yang besar untuk menjadi sebuah negara maju kedepannya. Modul ini akan terbagi dalam dua unit, yaitu:

*Unit 1 Warna-Warni Dunia Kita*, yang berisi materi tentang persebaran benua yang ada di dunia beserta ciri khasnya.

*Unit 2 Asia Jaya*, yang berisi materi tentang negara-negara di Asia meliputi Jepang, Tiongkok, India dan Saudi Arabia.

Selain penjelasan mengenai materi, modul ini juga dilengkapi dengan penugasan dan latihan soal untuk menguji pemahaman dan penguasaan Anda terhadap materi yang telah Anda dipelajari.

# UNIT 1 WARNA-WARNI DUNIA KITA

Bumi tempat kita berpijak merupakan planet yang aktif, dinamis dan hidup. Bumi mempunyai kehidupan, permukaan yang terus-menerus berubah dan juga terdiri atas daratan dan perairan. Dapat dikatakan bumi adalah planet air, sekitar 70% permukaan bumi tertutup oleh perairan, sedangkan sisanya adalah daratan. Permukaan bumi yang berupa perairan terdiri atas samudra, laut, selat, danau, rawa-rawa maupun sungai. Sementara itu 30% sisanya, permukaan bumi yang berupa daratan terdiri atas benua dan pulau. Kita hidup di atas lembaran atau lempengan benua yang telah mendingin dan terhampar. Bentuk lempengan ini bagaikan hamparan karpet yang bergerak-gerak di atas cairan bubur padat yang panas. Hamparan daratan yang luas di permukaan bumi inilah yang kita sebut sebagai benua. Wilayah bagian tengah benua bersifat kering karena tidak terpengaruh angin laut.

Tahukah Anda nama benua tempat tinggal kita sekarang? Tahukah Anda beberapa jumlah benua di bumi? Setiap benua memiliki karakteristik yang berbeda dengan benua lain. Persebaran benua di bumi dapat kita amati pada gambar berikut :



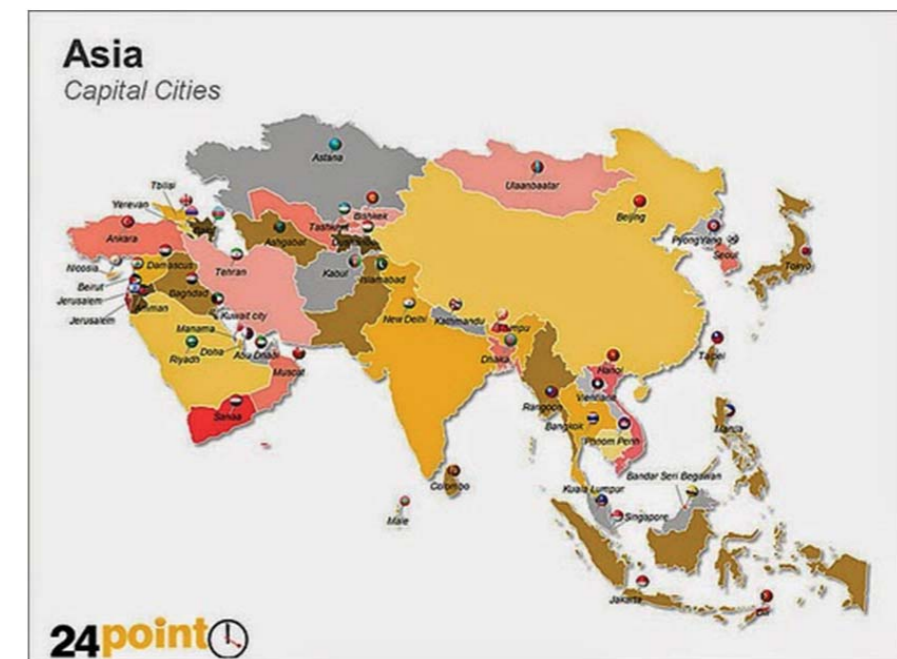
Gambar 1. 1 Persebaran Benua dan Samudra di Muka Bumi  
Sumber : <http://classic.scriptures.lds.org/>

Bumi terdiri atas enam daratan luas atau benua. Benua yang satu dengan yang lain umumnya dipisahkan oleh samudra. Keenam benua itu adalah Benua Asia, Afrika, Eropa, Amerika, Australia, dan Antartika. Benua terbagi menjadi banyak kawasan dan negara. Hanya Benua Antartika yang tidak ditinggali oleh manusia secara permanen. Benua-benua di bumi dikelilingi oleh samudra. Samudra itu adalah Samudra Pasifik, Atlantik, Hindia, dan Samudera Arktik.

Sebagian besar benua masih saling berhubungan. Hanya Benua Australia dan Antartika yang benar-benar terpisah dari benua lain. Seluruh wilayah Benua Australia dan Antartika dikelilingi samudra. Benua Asia dan Afrika dihubungkan oleh Tanah Genting Suez. Benua Amerika Utara dan Amerika Selatan dihubungkan oleh Tanah Genting Panama. Asia dan Eropa sebenarnya satu benua yang disebut Eurasia. Kedua benua terpisah karena alasan budaya dan sejarah.

Apabila kita mengamati peta dunia, dua pertiga wilayah benua terbentang di belahan bumi utara. Seluruh benua dihuni manusia, kecuali Benua Antartika. Bentuk benua yang khas adalah salah satu ciri dari benua. Ciri benua yang lain masih banyak, antara lain seperti bentang alam, iklim, dan penduduknya. Bentang alam wilayah benua dapat berupa gunung, pegunungan, danau, sungai, dan dataran. Bagaimana karakteristik benua di bumi? Serta negara apa saja yang ada dalam wilayah benua tersebut? Kalian dapat mengetahuinya dari penjelasan berikut.

## A. Benua Asia



Gambar 1. 2 Benua Asia  
Sumber : <https://www.flickr.com/>

## 1. Kondisi Fisik

Posisi geografis Benua Asia berada pada 77°45'LU dan 26°04'BT - 169°40'BB. Batas wilayah Benua Asia yaitu :

Batas Utara	Samudra Arktik
Batas Timur	Samudra Pasifik
Batas Selatan	Samudra Hindia
Batas Barat	Benua Eropa

Asia merupakan benua terluas di dunia sekitar 43.810.582 km<sup>2</sup>. Benua Asia dan Afrika dibatasi oleh tanah genting Suez. Benua Asia dan Eropa dibatasi oleh Selat Dardanillis, Laut Marmara, Selat Bosphorus, Laut Hitam, Pegunungan Kaukas, Laut Kaspia, Sungai Ural, Pegunungan Ural, serta Kepulauan Novaya Zemlia. Wilayah utara Asia mencakup sebagian besar Siberia dan Asia Tengah, sedangkan sebelah baratnya adalah dataran rendah berupa stepa, tundra, dan gurun pasir.

Dataran asia memiliki dataran tinggi (plato) yang sangat luas pada ketinggian 4.570 m yang terletak di Tibet, Tiongkok. Plato ini di kelilingi Pegunungan Himalaya, Pegunungan Karakorum, dan Pegunungan Hindukush. Gunung Everest (8.856 m) di Nepal adalah puncak tertinggi di dunia. Sedangkan Laut mati di Benua Asia pada posisi -480 m merupakan titik terdalamnya.

Kondisi iklim di Benua Asia di bagi menjadi empat bagian yaitu: (1) iklim tropis atau iklim panas, terdapat di kawasan Asia selatan dan Asia Tenggara; (2) iklim subtropis, terdapat di sebagian besar wilayah Asia Timur; (3) ketiga iklim dingin di wilayah Siberia; (4) iklim gurun di Asia Barat (Timur Tengah) dan kawasan Asia bagian tengah (Gurun Gobi).



Gambar 1.3 :  
Penampakan Alam  
Asia Sumber : <https://www.industry.co.id/>

## 2. Kondisi Penduduk

Asia adalah benua terbesar di dunia dan terdiri atas banyak suku, bangsa, ras dan agama. Beberapa ras yang dominan di Benua Asia antara lain ras Kaukasia, Mongolia, Negro, dan Campuran kaukasia-negro. Asia bagian utara seperti Rusia, Serbia, dan negara-negara pecahan Uni Soviet didominasi oleh ras Kaukasia. Wilayah Asia Timur dan Asia Tenggara didominasi oleh ras Mongolia. Sedangkan ras Melanesia terdapat di wilayah Papua, Indonesia. Dan ras campuran Kaukasia-Negro terdapat di Asia Barat dan Asia Selatan.



Gambar 1.4 Ras Penduduk Asia  
Sumber : <https://planetikers.wordpress.com/>

## 3. Negara-Negara di Asia

Persebaran negara-negara di kawasan Asia dapat dilihat pada tabel berikut :

Tabel 1.1 Persebaran Negara-negara di Kawasan Asia

No	Nama Negara	Ibu Kota	No	Nama Negara	Ibu Kota
<b>Asia Timur</b>			23	Siprus	Nikosia
1	Tiongkok	Beijing	24	Georgia	Tbilisi (tflis)
2	Hongkong	Hongkong	25	Irak	Baghdad
3	Makao	Makao	26	Israel	Jerusalem
4	Jepang	Tokyo	27	Yordania	Amman
5	Korea utara	Pyongyang	28	Kuwait	Kuwait
6	Korea selatan	Seoul	29	Lebanon	Beirut
7	Mongolia	Ulan Bator	30	Oman	Muskat
8	Taiwan	Taipei	31	Palestina	Jerusalem Timur
<b>Asia Tenggara</b>			32	Qatar	Doha
9	Brunei Darussalam	Bandar Seri Begawan	33	Arab Saudi	Riyadh

10	Kamboja	Phnom Penh	<b>Asia Selatan-Tengah</b>		
11	Indonesia	Jakarta	34	Afghanistan	Kabul
12	Laos	Vientiane	35	Bangladesh	Dhaka
13	Malaysia	Kuala Lumpur	36	Bhutan	Thimphu
14	Myanmar	Yangoon	37	India	New delhi
15	Filipina	Manila	38	Iran	Teheran
16	Singapura	Singapura	39	Kazakstan	Alma-Ata
17	Thailand	Bangkok	40	Maladewa	Male
18	Vietnam	Hanoi	41	Nepal	Kathmandu
19	Timor Leste	Dili	42	Pakistan	Islamabad
<b>Asia Barat</b>			43	Srilanka	Kolombo
20	Armenia	Yerevan	44	Tajikistan	Dushanbe
21	Azerbaijan	Baku	45	Turkimenistan	Askhabad
22	Bahrain	Manama	46	Uzbekistan	Tashkent

Jepang dan Tiongkok merupakan salah satu negara besar yang ada di Asia. Jepang adalah negara kepulauan yang juga kita kenal sebagai negeri Matahari Terbit atau negeri Sakura. Luasnya hanya sekitar 377.643 km. Sebelah utara berbatasan dengan Pulau Sakhalii. Batas sebelah timur adalah Samudra Pasifik yang membentang hingga menjadi batas sebelah selatan Jepang bersama Laut Tiongkok Selatan. Sedangkan disebelah barat berbatasan dengan Selat Korea dan Laut Jepang. Wilayah kepulauan Jepang bergunung-gunung. Gunung-gunung api di Jepang termasuk bagian dari jalur pegunungan di wilayah Pasifik. Lalu pernahkah kalian bertanya-tanya kenapa di Jepang sering sekali terjadi gempa dan seringkali disertai tsunami? Hal ini dikarenakan posisi Jepang yang terletak di sepanjang zona Cincin



Gambar: 1.5 Empat musim di Jepang  
Sumber: <http://thedaily-japan.com/>

Api Pasifik. Cincin Api Pasifik ini merupakan zona imajiner yang memiliki bentuk seperti sepatu kuda yang mengikuti tepi Samudera Pasifik. Di zona ini merupakan yang paling banyak terjadi gempa bumi dan gunung berapi meletus.

Di Jepang terdapat empat musim, yaitu musim panas, gugur, dingin, dan semi. Penduduk Jepang termasuk dalam ras Mongoloid. Penduduk asli Jepang adalah suku bangsa Ainu. Perekonomian Jepang tumbuh dari kegiatan industri, pertanian, dan perikanan. Jepang adalah negara industri yang maju.



Gambar 1.6 : Taman Nasional Zhangjiajie, Hunan, Tiongkok  
Sumber: [travel.detik.com](http://travel.detik.com)

Sementara itu, Tiongkok memiliki wilayah terluas ketiga di dunia setelah Rusia dan Kanada. Perkembangan industri Tiongkok sangatlah pesat. Seperti yang kita tahu bahwa banyak sekali barang-barang yang dihasilkan oleh



Gambar 1.7 Suku Uighur di Tiongkok  
Sumber : [intipseleb.com](http://intipseleb.com)

industry Tiongkok terkenal murah harganya, bahkan di negara kita. Luas wilayah Tiongkok adalah 9.596.961 km<sup>2</sup> dengan batas sebelah utara adalah negara Siberia (Republik Rusia) dan Mongolia. Sebelah timur berbatasan dengan Laut Tiongkok Timur, Laut Kuning, dan Korea Utara. Sebelah selatan dengan Laut Tiongkok Selatan, Vietnam, Laos, Myanmar, India, Nepal, dan Bhutan, serta sebelah barat dengan Laut Tiongkok, Bhutan, Kashmir, Tajikistan, Kirgistan, dan Kazakhstan.

Sebagian besar wilayah Tiongkok adalah pegunungan, dataran tinggi, dan gurun pasir. Dataran rendahnya relatif sempit. Daerah di bagian timur dan timur laut wilayah Tiongkok sangat subur. Daerah ini dialiri banyak sungai, seperti Sungai Huang Ho, Chang Jiang (Yang Tse), dan Xinjiang. Wilayah Tiongkok beriklim sedang memiliki musim panas, gugur, dingin, dan semi. Penduduk Tiongkok adalah bangsa Mongoloid dan suku bangsa Han, Mongol, Tibet, Kazakh, dan Uighur. Tiongkok termasuk negara agraris. Penduduk Tiongkok banyak bekerja di bidang pertanian, peternakan, pertambangan, industri, dan perdagangan.



## B. Benua Eropa



Gambar 1.8 Benua Eropa  
Sumber : <https://jadiberita.com/96753/>

### 1. Kondisi Fisik

Benua Eropa berada pada 36°LU-71°BT dan 10°BT-66°BT. Benua Eropa memiliki luas 10.600.000 km<sup>2</sup>. Benua Eropa merupakan benua terkecil kedua di Dunia setelah Benua Australia. Benua Eropa dan Benua Asia pada dasarnya merupakan satu daratan yang biasanya disebut dengan Eurasia. Perbatasan antara Benua Eropa dan Benua Asia terletak pada Pegunungan Ural yang berada di daratan Negara Rusia. Oleh sebab itu, Rusia sering disebut dengan negara yang berada di dua Benua yaitu Benua Eropa dan Benua Asia. Namun wilayah terbesar Rusia masih berada di Benua Asia. Selain Pegunungan Ural, Laut Kaspia dan Pegunungan Kaukasus juga dijadikan tolak ukur perbatasan Benua Eropa dan Benua Asia.

Batas Utara	Laut Barents dan Laut Norwegia
Batas Timur	Benua Asia
Batas Selatan	Benua Afrika dan Laut Mediterania
Batas Barat	Samudra Atlantik

Keadaan alam Benua Eropa dapat dibedakan menjadi tiga, yaitu dataran rendah, jalur pegunungan lipatan, dan dataran tinggi. Dataran rendah Eropa mencakup sekira

dua pertiga wilayah Eropa yang membentang dari barat ke timur dan dikelilingi oleh Pegunungan Ural, Laut Kaspia, Pegunungan Kaukasus, Laut Hitam, Pegunungan Alpen, dan kawasan Skandinavia Timur.

Iklm di Benua Eropa sendiri dikelompokkan menjadi 4 yaitu, iklim sedang yang dipengaruhi lautan tersebar di kawasan pantai barat dan kepulauan Inggris; iklim sedang yang dipengaruhi daratan tersebar dikawasan pedalaman Eropa bagian barat dan timur; iklim subarktik terdapat di sekitar garis kutub utara; serta iklim mediteran yang mencakup wilayah Eropa Selatan yang berbatasan dengan Laut Mediterania.

### 2. Kondisi Penduduk

Penduduk Benua Eropa dapat dibedakan menjadi 5 yaitu: suku bangsa Nordik yang memiliki ciri-ciri bermata biru dan berambut sangat pirang yang tinggal di wilayah utara seperti Jerman, Belanda dan Semenanjung Skandinavia; suku bangsa Alpina, memiliki ciri-ciri bermata coklat



Gambar 1.9 Ras Penduduk Eropa  
sumber : <https://planetikers.wordpress.com/>

dan berambut pirang yang tinggal di wilayah tengah seperti Perancis, Swiss dan Belgia; suku bangsa Mediteran memiliki ciri bermata agak kecoklatan dan berambut hitam bergelombang yang tinggal di Italia, Yunani dan Spanyol; suku bangsa Slavia memiliki ciri bermata abu-abu dan biru serta berambut pirang agak keputihan yang biasa tinggal di wilayah Bulgaria, Slovakia dan Yugoslavia; terakhir suku bangsa Dinara yang memiliki ciri berambut gelap dan biasa tinggal di wilayah Rumania.

### 3. Negara-Negara di Eropa

Benua Eropa dapat dibagi menjadi beberapa sub-region, yaitu Eropa Timur, Eropa Utara, Eropa Selatan dan Eropa Barat. Berikut ini adalah Negara-negara yang terletak di Benua Eropa beserta Ibukotanya.

**Tabel 1.2 Negara-negara yang Terletak di Benua Eropa Beserta Ibukotanya**

No	Nama Negara	Ibu Kota	No	Nama Negara	Ibu Kota
<b>Eropa Timur</b>			24	Serbia	Belgrade
1	Belarus	Minsk	25	Slovenia	Ljubljana
2	Bulgaria	Sofia	26	Spanyol	Madrid
3	Republik Ceko	Praha	<b>Eropa Utara</b>		
4	Hungaria	Budapest	27	Denmark	Kopenhagen
5	Moldova	Chisinau	28	Estonia	Tallinn
6	Polandia	Warsaw	29	Finlandia	Helsinki
7	Rumania	Bucharest	30	Islandia	reykjavik
8	Slowakia	Bratislava	31	Irlandia	Dublin
9	Ukraina	Kiev	32	Latvia	Riga
10	Georgia	Tbilisi	33	Lithuania	Vilnius
<b>Eropa Selatan</b>			34	Norwegia	Oslo
11	Albania	Tirana	35	Swedia	Stockholm
12	Andorra	Andorra la vella	36	Britania raya	London
13	Bosnia	Sarajevo	<b>Eropa Barat</b>		
14	Kroasia	Zagreb	37	Austria	Wina
15	Siprus	Nicosia	38	Belgia	Brussel
16	Yunani	Athens	39	Perancis	Paris
17	Vatikan	Vatican city	40	Jerman	Berlin
18	Italia	Roma	41	Liechtenstein	Vaduz
19	Makedonia	Skopje	42	Luksemburg	Luksemburg
20	Malta	Valletta	43	Monako	Monako
21	Montenegro	Podgorica	44	Belanda	Amsterdam
22	Portugal	Lisbon	45	Swiss	Bern
23	San Marino	San Marino			

Pada umumnya negara-negara di Eropa telah maju. Sebagian besar Negara di Eropa adalah negara besar. Contohnya, Inggris dan Jerman. Negara Inggris beribukota di London dengan batas sebelah utara adalah Laut Norwegia; sebelah timur adalah Laut Utara; sebelah selatan adalah Selat Dover dan Selat Inggris; serta sebelah barat adalah Samudra Atlantik, Laut Irish, dan Selat Saint George.

Inggris Raya terdiri atas England, Wales, Skotlandia, dan Irlandia Utara. Sebagian besar wilayahnya berupa pegunungan dan dataran tinggi sehingga ber relief kasar. Pegunungan terdapat di England dan Wales. Wilayah Inggris beriklim sedang dan mengalami empat musim, yaitu musim panas, gugur, dingin, dan semi. Inggris memiliki beberapa kota-kota yang dianggap penting, diantaranya adalah Birmingham yang menjadi kota pusat industri berat seperti

mesin mobil dan pesawat terbang; Leeds yang menjadi pusat industri pemintalan wol dan tekstil; serta Cambridge dan Oxford yang menjadi kota pendidikan karena memiliki universitas terkenal. Penduduk Inggris berasal dari bangsa Kelt dan Jerman. Inggris adalah negara industri yang maju. Kegiatan ekonomi penduduk umumnya di bidang pertanian, pertambangan, industri, dan perdagangan.

Sementara itu Negara Jerman, awalnya dulu terpecah menjadi 2 bagian yaitu Jerman Barat dan Jerman Timur. Namun pada tanggal 3 Oktober 1990 Jerman Barat dan Timur menyatu kembali menjadi Republik Jerman dengan Kota Berlin sebagai Ibukotanya. Sebelah utara Jerman berbatasan dengan Laut Utara, Denmark, dan Laut Baltik. Di sebelah timur berbatasan dengan Polandia, Ceko, dan Slovakia, sedangkan di sebelah selatan berbatasan dengan Austria dan Swiss. Serta di sebelah barat berbatasan dengan Belanda, Belgia, Prancis.

Wilayah Jerman dapat dibagi menjadi tiga bentang alam yaitu dataran rendah di bagian utara; bagian tengah merupakan dataran tinggi yang terdiri atas plato, pegunungan, bukit, dan lembah; dan bagian selatan berupa Pegunungan Alpen



Gambar 1.10 Pegunungan Alpen di Eropa  
Sumber : economy.okezone.com

Bavaria yang merupakan bagian dari Sirkum Mediteran. Wilayah Jerman beriklim sedang, peralihan laut dan darat, serta mengalami musim panas, gugur, dingin, dan semi.

Beberapa kota penting di Jerman ialah Hamburg yang menjadi kota terbesar di Jerman dan merupakan kota pelabuhan serta Frankfurt yang menjadi kota pusat industri, keuangan, dan perbankan. Penduduk Jerman berasal dari bangsa Jerman, Turki, Italia, Greek, dan Poles serta penduduk asli (suku Tetonia, Kelt, dan SI kota penting avia). Jerman menjadi negara industri terkenal sejak abad XVIII. Jerman menghasilkan mesin-mesin pabrik dan mobil. Kegiatan ekonomi penduduk umumnya di bidang industri, pertanian, pertambangan, dan perdagangan.

### C. Benua Afrika



Gambar 1.11 Benua Afrika  
 Sumber : <http://ruanasagita.blogspot.com>

#### 1. Kondisi Fisik

Posisi geografis benua Afrika berada pada 37°LU-34°LS dan 17°BB-51°BT. Benua Afrika memiliki luas wilayah 30.224.050 km<sup>2</sup>. Sebagian besar wilayah di Benua Afrika beriklim Tropis. Namun wilayah Afrika bagian utara dan selatan memiliki iklim subtropis. Meskipun demikian bentang alam Benua Afrika dengan banyak gurun mempengaruhi kondisi iklimnya. Oleh karena itu Benua Afrika terkenal beriklim panas dengan suhu tinggi dan curah hujan yang sedikit.

Berikut merupakan batas-batas benua Afrika:

Batas Utara	Benua Asia, Benua Eropa dan Laut Mediterania
Batas Timur	Samudra Hindia
Batas Selatan	Samudra Hindia dan Samudra Atlantik
Batas Barat	Samudra Atlantik

#### 2. Kondisi Penduduk

Penduduk di Benua Afrika dapat dikelompokkan menjadi empat kelompok yaitu ras Negro, ras Hamit, ras Khusus dan ras Eropa. Ras Negro meliputi Negro Sudan dan Negro Bantu yang mendominasi 70% penduduk Afrika. Sebagian besar ras Hamit mendiami wilayah Afrika bagian utara dan timur laut. Ras Khusus yang masih primitif seperti ras Pygmy di hutan Kongo, ras Bushmen di Gurun Kalahari dan ras Hottentot. Sebagian besar ras Eropa (orang kulit putih) menghuni negara Afrika Selatan.



Foto : Konferensi Asia Di New Delhi  
 Sumber : <https://www.berpendidikan.com>

#### 3. Negara-negara di Afrika

Negara-negara di Benua Afrika terdiri atas banyak suku, bangsa, ras dan agama. Afrika terbagi menjadi lima kawasan, yaitu Afrika Utara, Afrika Barat, Afrika Timur, Afrika Tengah dan Afrika Selatan. Berikut adalah tabel persebaran negara-negara.

Tabel 1.3 Persebaran Negara-negara Afrika

No	Nama Negara	Ibu Kota	No	Nama Negara	Ibu Kota
<b>Afrika Utara</b>			28	Kenya	Nairobi
1	Aljazair	Aljir	29	Madagaskar	Antananarivo
2	Mesir	Kairo	30	Malawi	Lilongwe
3	Libya	Tripoli	31	Mauritius	Port Louis
4	Maroko	Rabat	32	Mayotte	Dzaoudzi
5	Sudan	Khartum	33	Mozambik	Maputo
6	Tunisia	Tunis	34	Reunion	Saint-Denis
7	Sahara Barat	El Aainu	35	Rwanda	Kigali
<b>Afrika Barat</b>			36	Seychelles	Victoria
8	Benin	Porto Novo	37	Somalia	Mogadishu
9	Burkina Faso	Ouagodougou	38	Tanzania	Do doma
10	Pantai Gading	Abidjan	39	Uganda	Kampala
11	Gambia	Banjul	40	Zambia	Lusaka

12	Ghana	Akra	41	Zimbabwe	Harare
13	Guinea	Konakri	<b>Afrika Tengah</b>		
14	Togo	Lome	42	Angola	Luanda
15	Liberia	Monrovia	43	Kamerun	Younde
16	Mali	Bamoko	44	Afrika Tengah	Bangui
17	Mauritania	Nauakchoot	45	Cad	N'Djamena
18	Niger	Niamey	46	Kongo	Brazzaville
19	Nigeria	Abuja	47	Zaire	Kinshasa
20	Senegal	Dakar	48	Guinea Ekuitorial	Malabo
21	Sierra Leone	Freetown	49	Gabon	Libreville
22	Guinea-Bissau	Bissau	50	Sao Tome dan Principe	Sao Tome
<b>Afrika Timur</b>			<b>Afrika Selatan</b>		
23	Burundi	Bujumbura	51	Botswana	Gaborone
24	Komoro	Moroni	52	Lesotho	Maseru
25	Jibuti	Jibouti	53	Namibia	Windhoek
26	Eritrea	Asmera	54	Afrika Selatan	Pretoria
27	Ethiopia	Addis Ababa	55	swaziland	Mbabane

Contoh negara besar di Benua Afrika adalah Mesir dan Republik Afrika Selatan. Mesir (*Egypt*) terkenal karena peninggalan sejarahnya. Piramida dan patung Sphinx adalah contoh peninggalan sejarah yang penting bagi perkembangan ilmu pengetahuan dunia. Beribukota di Kairo, Mesir berbatasan dengan Laut Tengah di sebelah utara; Arab Saudi, Israel dan Laut Merah di sebelah timur; Sudan di sebelah Selatan dan Libia sebelah barat.

Sembilan puluh persen wilayah Mesir berupa gurun namun begitu Mesir memiliki sungai terpanjang di dunia yaitu Sungai Nil yang menjadikan daerah-daerah di sekitaran Sungai Nil menjadi sangat subur. Wilayah Mesir beriklim subtropis dan gurun di bagian selatan dan tengah mesir memiliki 2 kota penting yang menjadi kota



Gambar 1.13 : Padang Pasir Mesir  
Sumber : umma.id

pelabuhan, yaitu Iskandariah yang merupakan kota terbesar kedua di Mesir dan kota pelabuhan utama serta Port Said yang menjadi kota pelabuhan di ujung utara Terusan Suez. Penduduk Mesir adalah suku Arab, Hamis, dan Nubia. Kegiatan ekonomi penduduk umumnya di bidang pertanian, peternakan, dan industri.

Sementara itu, Republik Afrika Selatan termasuk negara kaya karena tambang emas dan berliannya. Negara ini terletak di ujung selatan Benua Afrika. Beribukota di Cape Town, Republik Afrika Selatan berbatasan dengan Botswana, Namibia, Zimbabwe di sebelah utara; Mozambik, Leshoto, Swaziland, dan Samudra Hindia di sebelah timur; Samudra Hindia di sebelah Selatan dan Samudra Atlantik dan Namibia sebelah barat.



Gambar 1.14 Bentang Alam Afrika Selatan  
sumber : pergipergiyuk.com

Wilayah Republik Afrika Selatan merupakan dataran tinggi atau plato. Wilayah Republik Afrika Selatan beriklim subtropis. Dua kota penting di Republik Afrika Selatan adalah Johannesburg yang merupakan kota terbesar di Republik Afrika Selatan dan menjadi pusat pertambangan, industri, dan perdagangan; serta Durban yang menjadi kota pelabuhan terbesar di wilayah Afrika Selatan. Penduduk Republik Afrika Selatan terdiri empat ras yaitu Negro Bantu atau bangsa Nguni yang merupakan penduduk pribumi; Kulit putih yang merupakan keturunan Belanda, Inggris, dan Jerman, dan Prancis; Kulit berwarna merupakan campuran kulit putih dan suku Hottentot; serta Orang Asia yang kebanyakan berasal dari India. Kegiatan ekonomi penduduk di bidang pertanian, pertambangan, dan industri.

## D. Benua Amerika



Gambar 1.15 Benua Amerika  
Sumber : <https://www.belajarsosial.com/>

### 1. Kondisi Fisik

Benua Amerika merupakan benua terbesar ke-2 setelah Benua Asia. Luas wilayah Benua Amerika adalah 41.825.581 km<sup>2</sup>. Wilayah Amerika Utara dan Amerika Selatan dihubungkan oleh Tanah Genting Panama. Selain itu terdapat pula terusan Panama yang menghubungkan Samudra Pasifik dan Samudra Atlantik.

Posisi geografis Amerika Utara berada pada 80°LU-20°LU dan 150°BB-30°BB serta Amerika Selatan berada pada 5°LU-40°LS dan 90°BB-30°BB. Berikut adalah batas benua Amerika:

Batas Benua	Amerika Utara	Amerika Selatan
Batas Utara	Samudra Arktik	Laut Karibia dan Samudra Atlantik
Batas Timur	Samudra Atlantik	Samudra Atlantik
Batas Selatan	Samudra Pasifik dan Teluk Meksiko	Samudra Pasifik dan laut Nova Scotia
Batas Barat	Samudra Pasifik	Samudra Pasifik

Iklm tropis meliputi Amerika Tengah dan sebagian besar wilayah Amerika Selatan. Sedangkan Amerika Serikat, Kanada, dan Amerika Selatan bagian selatan beriklim subtropis dan Amerika bagian barat beriklim gurun.

### 2. Kondisi Penduduk

Jumlah penduduk Benua Amerika pada tahun 2016 adalah 1 milyar jiwa.. Penduduk Amerika terdiri atas 2 golongan berdasarkan pada sifat aslinya.

a. Penduduk Asli, yaitu bangsa Eskimo dan Indian yang termasuk rumpun bangsa Mongol.

b. Penduduk pendatang (imigran), terdiri dari 4 golongan besar, yaitu orang-orang Mongol (kulit kuning). Orang-orang Negro (kulit hitam), orang-orang kulit putih (Eropa), dan orang-orang Mesir. Mereka datang bermigrasi ke benua ini dengan berbagai alasan dan tujuan. Suku bangsa yang ada di Amerika antara lain suku Cheyyene, Comache, Sioux, Apache, Navajo, Pueblo, Cherokee, Iroquois, Mulato, Kreol dan Huron.



Gambar 1.16 : Suku Indian Amerika  
Sumber : <https://aspal-putih.blogspot.com/>

### 3. Negara-Negara di Amerika

Umumnya wilayah Amerika dibagi mejadi 3 bagian, yaitu wilayah Amerika Utara, Amerika Tengah dan Amerika Selatan. Berikut adalah daftar persebaran negara-negara di benua Amerika.

**Tabel 1.4 Daftar Persebaran Negara-negara di Benua Amerika**

No	Nama Negara	Ibu Kota	No	Nama Negara	Ibu Kota
<b>Amerika Utara</b>			18	Martinique	Fort de France
1	Amerika Serikat	Washington	19	Trinidad&Tobago	Port of Span
2	Kanada	Ottawa	20	Jamaika	Kingston
3	Meksiko	Mexico City	21	Puerto Rico	San Juan
<b>Amerika Tengah</b>			<b>Amerika Selatan</b>		
4	Kostarika	San Jose	22	Brasil	Brasilia
5	Elsalvador	Domingo	23	Argentina	Buenos Aires
6	Antiqua	St.Johns	24	Kolombia	Bogota
7	Belize	Belmopan	25	Paraguay	Asuncion
8	Barbados	Bridgetown	26	Uruguay	Montevideo
9	Dominika	Santo	27	Venezuela	Caracas
10	Grenada	San salvador	28	Peru	Lima
11	Guadeloupe	St.Geourge's	29	Bolivia	La Paz
12	Guatemala	Guatemala	30	Ekuador	Quito
13	Haiti	Poutau Prince	31	Chili	Santiago
14	Kuba	Havana	32	Guyana	Georgetown
15	Honduras	Teguocipalgapa	33	Guyana	Cayenne
16	Nikaragua	Managua	34	Suriname	Panaribo
17	Panama	Panama	35	Kepulauan Falkland	Teritori Inggris Raya

Dari negara-negara tersebut, Amerika Serikat adalah negara paling maju dan Brasil adalah negara terluas di Amerika Selatan. Amerika Serikat beribukota di Washington DC. Berbatasan dengan Kanada di sebelah utara, Samudra Atlantik di sebelah timur,

Meksiko dan Teluk Meksiko di sebelah selatan serta Samudra Pasifik di sebelah barat. Wilayah Amerika Serikat beriklim tropis, subtropis, laut, kutub, darat, dan gurun.

Amerika memiliki beberapa kota penting yang menjadi pusat kegiatan perekonomiannya, diantaranya adalah New York yang menjadi kota terbesar di dunia serta sebagai pusat perdagangan, dan markas besar PBB; kemudian Los Angeles yang menjadi pusat industri perfilman; Philadelphia yang menjadi pusat kesenian dan kota pelabuhan; serta Chicago yang menjadi pusat perdagangan dan industri. Perekonomian Amerika Serikat banyak didukung dari bidang pertanian, pertambangan, industri, dan perdagangan.

Sedangkan Negara Brasil merupakan negara yang mendapat pengaruh kuat dari Portugis, meskipun umumnya negara di Amerika Latin dipengaruhi oleh Spanyol. Namun Brasil juga terkenal karena prestasi sepak bolanya. Batas wilayah brasil di sebelah utara adalah Venezuela, Guyana, Suriname, Guiana Prancis, dan Samudra Atlantik; disebelah timur adalah Samudra Atlantik; di sebelah selatan adalah Paraguay, Uruguay, dan Samudra Atlantik; disebelah barat adalah Bolivia, Peru, dan Kolombia.

Sebagian besar wilayah Brasil berupa pegunungan dan dataran tinggi. Dataran rendah yang luas terdapat di bagian utara yaitu di lembah Sungai Amazon. Wilayah Brasil beriklim tropis dan subtropis. Daerah di Lembah Amazon mendapat curah hujan yang paling tinggi. Beberapa kota penting di Negara Brazil adalah Rio de Janeiro yang



Gambar 1.17 : lembah Sungai Amazon

Sumber :<https://s3-ap-southeast-1.amazonaws.com/magazine.job-like.com/magazine/wp-content/uploads/2018/07/06124421/foto03a.jpg>

merupakan bekas ibu kota Brasil dan memiliki pemandangan indah sangat terkenal sebagai tujuan wisata para turis asing; Sao Paulo yang menjadi pusat industri dan perdagangan; Porto Alegre menjadi kota pelabuhan sungai terbesar di Brasil; serta Salgado sebagai penghasil cokelat, tembakau, kapas, dan minyak. Penduduk Brasil berasal dari bangsa Mestizo, Mulato, dan Zambo, imigran, dan Indian (penduduk Asli). Kegiatan ekonomi penduduk dilakukan di bidang pertanian, peternakan, industri, perdagangan, dan kehutanan.

## E. Benua Australia



Gambar 1.18 Benua Australia  
Sumber : <https://sejarahnasionaldandunia.blogspot.com/>

Iklim di Benua Australia dibedakan menjadi lima berdasarkan letak lintang dan keadaan alamnya, yaitu : iklim tropis yang terdapat di Australia bagian utara; iklim subtropis di selatan Australia; iklim laut sedang di wilayah selatan Victoria dan Tasmania; serta iklim gurun yang mempengaruhi daerah-daerah gurun.

### 1. Kondisi Penduduk

Penduduk asli Benua Australia adalah orang Aborigin yang tinggal di daerah-daerah pedalaman yang kering dan tandus. Sedangkan penduduk Australia sebagian besar adalah orang kulit putih yang merupakan imigran dari Eropa dan sebagian yang lain merupakan imigran dari Asia.



Gambar 1.19 : Suku Aborigin Australia  
Sumber : idntimes.com

### 2. Pembagian Wilayah di Australia

Australia terdiri dari enam negara bagian dan dua wilayah teritorial. Berikut ini negara-negara bagian dan wilayah teritorial Australia.

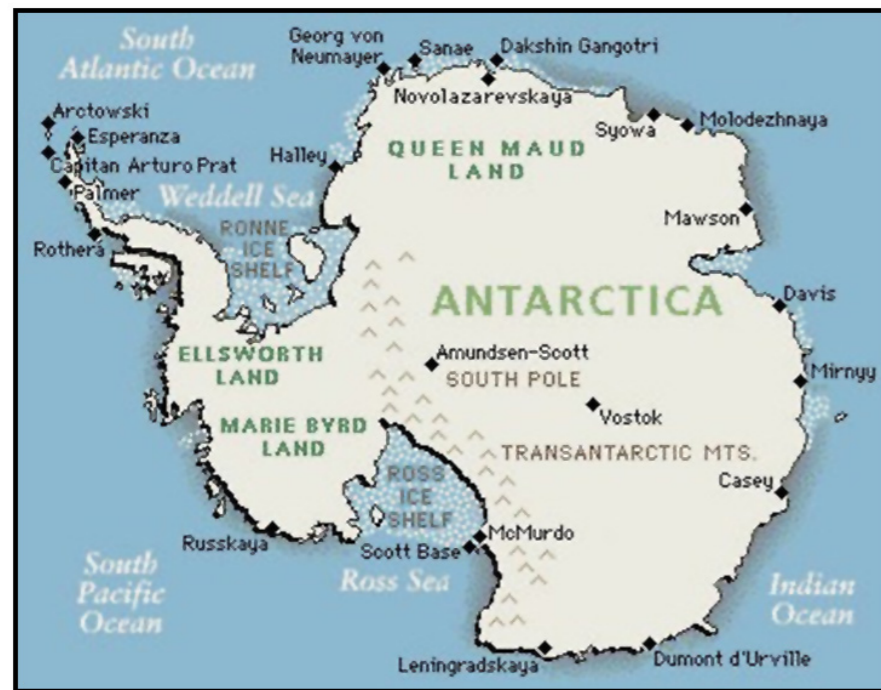
### 4. Kondisi Fisik

Benua Australia jika dilihat dari peta berada di bagian selatan negara kita, Indonesia. Letaknya menyendiri di belahan bumi bagian selatan dengan topografi paling rata dibandingkan benua yang lain dan sebagian wilayahnya adalah plato rendah. Secara geografis Benua Australia berada pada 10°LS-44°LS dan 113°BT-154°BT. Benua Australia merupakan benua terkecil yang memiliki luas 7.713.000 km<sup>2</sup> dan uniknya Australia sering disebut sebagai negara benua karena hanya satu Negara di dunia yang wilayahnya meliputi seluruh benua. Batas wilayah benua Australia adalah sebagai berikut:

Batas Utara	Laut Timor dan Laut Arafuru
Batas Timur	Samudra Pasifik
Batas Selatan	Samudra Hindia
Batas Barat	Samudra Hindia

No	Nama Negara	Ibu Kota
1	New South Walles	Sydney
2	Queensland	Brisbane
3	Australia Barat	Perth
4	Australia Selatan	Adelaide
5	Victoria	Melbourne
6	Tasmania	Hobart
7	Teritorial Ibukota Australia	Canbeera
8	Teritorial Australia Utara	Darwin

## F. Benua Antartika



Gambar 1.19 Benua Antartika  
Sumber: <http://www.gurupendidikan.co.id/>

Benua Antartika dikelilingi oleh Samudra Antartika atau *Southern Ocean*. Benua antaratika memiliki luas 15.500.000 km<sup>2</sup> dan berada pada posisi geografis 66°33'LS-90°LS. Benua Antartika dibatasi oleh Samudra Atlantik, Samudra Hindia dan Samudra Pasifik di sebelah utara. Benua ini dipisahkan oleh pegunungan diantara Laut Ross dan Laut Weddell sehingga wilayahnya menjadi antartika Barat dan Antartika Timur.

Antartika merupakan benua yang tidak dihuni oleh manusia secara permanen karena hampir seluruh wilayahnya tertutup salju. Ia juga merupakan zona bebas meskipun ada beberapa negara yang mengajukan klaim kepemilikan atas wilayah Benua Antartika. Sebanyak 29 negara menandatangani Traktat Antartika dan memiliki stasiun riset yang digunakan sepanjang tahun.

Kini pengetahuan kita tentang benua pasti bertambah dan juga semakin mengenal benua-benua yang ada di bumi. Bentang alam, iklim, penduduk, dan kegiatan ekonomi di setiap benua berbeda-beda. Kita tahu bahwa tidak semua



Gambar : 1.21 Bentang Alam Antartika  
Sumber : [www.idntimes.com](http://www.idntimes.com)

benua dapat dihuni oleh manusia. Manusia akan memilih tinggal di lingkungan wilayah yang sesuai. Manusia hidup tersebar di wilayah benua. Mereka membentuk kelompok di banyak negara. Berbagai bangsa menjadi penduduk suatu negara dan benua. Kita juga telah mengetahui bahwa penduduk di Bumi memiliki karakteristik fisik, kepribadian dan budaya yang beragam. Sebagai contoh, orang Negro di Afrika berkulit gelap, orang Indian di Amerika Utara berkulit kemerahan dan orang Mongoloid di Asia berkulit kuning-coklat. Keragaman warna kulit bukan suatu halangan untuk saling mengenal. Kita hendaknya menjalin persahabatan dengan warga dunia dan juga suku bangsa yang beragam. Persahabatan akan membuat kehidupan tentram, damai dan menyatu.

Mengetahui dari benua atau negara mana seseorang berasal maka kita juga akan bisa sedikit membaca bagaimana pola pikir orang tersebut yang tentunya telah dibentuk oleh faktor tempat ia tinggal. Hal ini dapat membuat kita lebih mudah dalam memahami orang lain yang tentu juga dapat bermanfaat ketika kita akan melakukan negosiasi ataupun perjanjian kerjasama dengan orang-orang dari benua atau negara tertentu.

### Asal Mula Benua

Benua adalah daratan yang sangat luas. Seorang ahli dari Jerman yang bernama Alfred Wagener mengatakan bahwa semua benua yang ada sekarang ini pada mulanya tergabung menjadi satu yang disebut Benua Pangea. Benua Pangea kemudian terpecah menjadi dua benua, yaitu Benua Laurasia (di bagian utara) dan Benua Gondwana (di bagian selatan). Proses pecahnya benua Pangea ini terjadi sekitar 135 juta tahun lalu. Selanjutnya Benua Laurasia bagian barat bergerak ke utara menjauhi benua Gondwana yang akhirnya membentuk benua Amerika Utara. Sedangkan Benua Gondwana di selatan terpecah menjadi beberapa benua, yaitu sebagai berikut:

- ▶ Bagian barat bergeser terus ke arah barat menjadi Benua Amerika Selatan.
- ▶ Bagian timur bergerak ke timur menjadi Benua Afrika.
- ▶ Bagian yang lebih kecil di bagian timur terus bergerak ke arah timur laut dan menjadi India.
- ▶ Satu bagian lagi terpecah menjadi dua, yaitu bagian timur terus bergerak ke arah timur laut, dan pecahan bagian barat terus bergerak ke arah selatan.

Perkembangan selanjutnya, Amerika Utara bergabung menjadi satu dengan Amerika Selatan, Eurasia menjadi Benua Eropa dan Benua Asia. Bagian paling selatan yang bergerak ke selatan menjadi benua Antartika dan bagian dari bagian selatan yang bergerak ke timur laut menjadi Benua Australia.

Sumber: <http://www.artikelsiana.com>



## PENUGASAN 1

Bacalah materi mengenai karakteristik benua dengan seksama. Dengan peta dunia yang sudah disediakan, berikan warna yang berbeda-beda dari ke-enam benua yang ada di bumi. Dengan ketentuan:

1. Benua Asia : warna kuning
2. Benua Eropa : warna biru
3. Benua Afrika : warna hitam
4. Benua Amerika : warna merah
5. Benua Australia : warna hijau
6. Benua Antartika : warna putih

Berikan catatan karakteristik dari masing-masing benua tersebut!

Bagaimana pengaruh perbedaan karakteristik tersebut terhadap kehidupan sehari-hari?

### ■ Tujuan

Melalui penugasan ini diharapkan Anda dapat:

1. Mengidentifikasi karakteristik benua di dunia
2. Menemutunjukkan benua-benua yang ada di bumi.
3. Mempresentasikan atau memaparkan laporan di depan diskusi secara panel

### ■ Media

Untuk melakukan penugasan ini, Anda diminta untuk menyiapkan:

1. Modul pembelajaran atau media belajar lainnya untuk mendapatkan informasi ketampakan alam
2. Peta Dunia
3. Alat tulis dan pensil warna

### ■ Langkah-langkah

Untuk mengerjakan penugasan 1, Anda dapat mengikuti langkah-langkah berikut:

1. Cari dan kumpulkanlah informasi/data tentang karakteristik dari masing-masing benua yang ada di dunia!
2. Warnai peta dunia berdasarkan pembagian benua di dunia!



3. Tuliskan karakteristik benua-benua tersebut seperti pada table berikut!

**Tabel 1**

No	Karakteristik Benua	Asia	Eropa	Dst..
1	Iklm			
2	Kondisi tanah			
3	Bentang alam yang ada			
4	Keadaan penduduk			
5	Kondisi negara-negaranya			

4. Bagaimana pengaruh perbedaan karakteristik tersebut terhadap kehidupan sehari-hari? (catatlah pada lembar kerja kalian)

## LATIHAN SOAL 1

### A. Pilihlah Jawaban yang Paling Tepat dengan Memberi Tanda (X) A, B, C dan D!

- Pada awalnya, bumi terdiri atas satu benua maha luas yang dinamakan ...
  - Tetis
  - Pangea
  - Laurasia
  - Gondwana
- Benua yang seluruh wilayahnya terdapat di wilayah bumi bagian selatan adalah ...
  - Eropa
  - Afrika
  - Australia
  - Asia
- Benua yang penduduknya didominasi oleh ras negroid adalah ....
  - Afrika
  - Eropa
  - Amerika
  - Asia
- Penduduk asli benua australia hampir mirip dengan penduduk papua, yang dikenal dengan sebutan ....
  - Alboriginal
  - Alabnian
  - Alborigion
  - Aborigin
- Menurut letak astronomisnya, Amerika serikat dan kanada termasuk kawasan di ...
  - Amerika Utara
  - Amerika Barat
  - Amerika Latin
  - Anglo Amerika
- Secara astronomis Benua Asia terletak pada ....
  - 11° LU – 77° LU dan 62° BT – 169 °BT
  - 77°45'LU dan 26°04'BT - 169°40'BB
  - 9°LS -37° LU dan 17° BB – 51° BT
  - 9 °LS – 45° LS dan 113° BT – 154° BT
- Alfred WGener, seorang ahli meteorologi, geofisika, pada tahun 1915 mengemukakan teori tentang hanyutan benua. Beliau berasal dari ...

- Jerman
- Inggris
- Spanyol
- Amerika

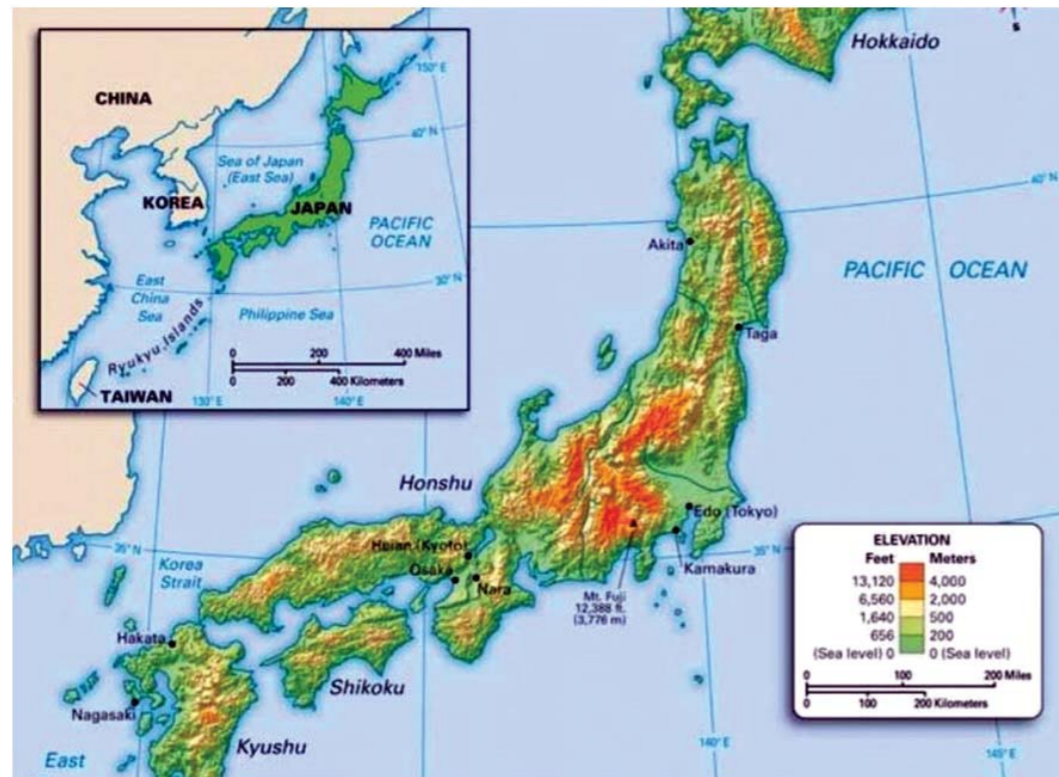
- Benua di bumi ada yang tidak berpenghuni karena tertutup oleh es, yaitu benua ...
  - Atlantik
  - Antartika
  - Asia
  - Artik
- Benua dengan luas wilayah terkecil, namun satu negara yang terluas di dunia ialah ...
  - Antartika
  - Australia
  - Eropa
  - Afrika
- Nama ibu kota negara Tazmania adalah ...
  - Sydney
  - Darwin
  - Melbowrn
  - Hobart

### B. Jawablah Soal Uraian Ini dengan Benar!

- Sebutkan batas-batas Benua Asia!
- Ada berapa ras penduduk di Benua Eropa? Sebutkan dan jelaskan ciri-cirinya!
- Sebutkan kota-kota penting yang ada di wilayah Mesir dan Afrika Selatan!
- Sebutkan 3 ciri khas Benua Antartika!
- Berdasarkan teori Alfred Wagener, pada mulanya benua hanya ada satu yang disebut Pangea. Kemudian Pangea terpecah menjadi benua Laurasia dan Benua Gondwana. Sebutkan pecahan-pecahan Benua Gondwana!

# UNIT 2 ASIA JAYA

Kalian telah mempelajari tentang permukaan bumi yang berupa benua dan samudra beserta karakteristik masing-masing. Selanjutnya kalian perlu mengetahui beberapa negara yang ada di tiap-tiap kawasan benua. Khusus untuk Negara Australia tidak akan kita bahas lagi karena Australia adalah contoh suatu negara yang meliputi satu benua, dan tentang negara itu sudah kalian pelajari di depan. Pada uraian kali ini hanya akan diambil satu contoh negara dari satu benua.



Gambar 2.1 Peta Negara Jepang  
sumber : thegorbalsla.com

## A. Jepang

### 1. Bentuk pemerintahan

Jepang merupakan negara dengan sistem pemerintahan kekaisaran. Kepala negaranya disebut dengan Kaisar dan kepala pemerintahannya adalah Perdana Menteri. Negara ini beribu kota di Tokyo yang terletak di Pulau Honshu.

### 2. Letak dan luas

Jepang merupakan negara kepulauan dengan 3000 buah pulau, tetapi bagian dari Benua Asia. Benua Asia dan kepulauan Jepang dipisahkan oleh laut Jepang. Pulau terbesar dan menjadi daerah aktivitas adalah Pulau Hokkaido, Honshu, Shikoku dan Kyushu. Negara Jepang terletak antara 129° BT – 147° BT dan 20° LU – 50° LU dengan luas keseluruhan negara Jepang sekitar 377.815 km<sup>2</sup>.

Secara geografis, batas-batas wilayah negara Jepang, yaitu sebagai berikut.

- ▶ Sebelah utara berbatasan dengan Laut Okhotsk.
- ▶ Sebelah Timur berbatasan dengan Samudra Pasifik.
- ▶ Sebelah Barat berbatasan dengan Laut Jepang.
- ▶ Sebelah Selatan berbatasan dengan Laut Tiongkok Timur.

### 3. Iklim

Sebagian besar negara ini beriklim sedang dan sebagian kecil beriklim tropis. Waktu matahari beredar ke utara (Juni – September) maka terjadi musim panas. Pada waktu matahari beredar di selatan (Oktober – Mei) bergerak angin dari wilayah Siberia yang dingin yang menimbulkan hujan salju di wilayah pantai barat, sedangkan wilayah pantai timur terjadi angin kering. Curah hujan tahunannya berkisar antara 1000 – 3.000 mm dengan suhu rata – rata 23°C. selain angin dari laut, wilayah pantai timur dipengaruhi arus panas yang dikenal Kurosyiwo, sehingga wilayah pantai timur kondisi udaranya hangat.

### 4. Keadaan alam

Wilayah Jepang dilalui oleh pegunungan Sirkum Pasifik, maka sebagian besar (71 %) terdiri atas wilayah pegunungan, sehingga banyak gunung api yang aktif (gunung Fuji adalah gunung yang terkenal dan suci bagi penduduk Jepang), sedangkan daratannya yang dipisahkan pegunungan sempit yang dijadikan aktivitas penduduk negara Jepang. Masalah alam yang sering melanda negara ini yaitu: Letusan gunung api, banjir, gempa bumi, dan angin topan.



Gambar 2.2 Gunung Fuji dari jauh  
sumber : matcha-jp.com

## 5. Flora dan fauna

Sebagian besar pegunungan, maka daerah tersebut dijadikan lahan hijau yang tidak diganggu dan tertutup hutan. Karena daerahnya bersalju dengan iklim sedang, maka tumbuh hutan konifer, sedangkan sebelah selatan yang dipengaruhi angin laut tumbuh berdaun lebat. Fauna yang dapat hidup di wilayah ini yaitu babi hutan, rusa, serigala dan monyet. Fauna ini sesuai dengan kondisi alam yang hampir sama dengan daerah beriklim tropis.

## 6. Penduduk dan Pendidikan

Kondisi iklim memengaruhi aktivitas penduduk karena itu aktivitas penduduk sebagian besar berada di pulau Honshu. Penduduk asli Jepang adalah bangsa Ainu. Penduduk Jepang mempunyai sifat yang perlu ditiru seperti: ulet, rajin, disiplin. Sifat ini yang mengantarkan negara Jepang menjadi negara maju.



Gambar 2.3 Pekerja Jepang yang terkenal ulet, rajin dan disiplin  
sumber : m.tribunnews.com

Pendidikan di Jepang mencakup pendidikan formal di sekolah, pendidikan moral di rumah, dan pendidikan masyarakat (pendidikan seumur hidup). Wajib belajar pendidikan dasar dan menengah berlaku untuk penduduk berusia 6 tahun hingga 15 tahun. Penduduk terdaftar yang memiliki anak usia wajib belajar akan menerima pemberitahuan untuk memasukkan anak ke sekolah. Sebagian besar lulusan sekolah menengah pertama melanjutkan ke sekolah menengah atas.

## 7. Perekonomian

Sifat orang Jepang yang ulet, rajin, disiplin, menghargai karya sendiri dan bangga terhadap negara sendiri menjadi dasar bagi perkembangan negara. Dengan sifat ini orang Jepang membangun negerinya sampai menjadi negara industri utama dan maju. Kemajuan negaranya berdampak terhadap pendapatan rata-rata penduduk yang tinggi sekitar US \$ 28.220/ kapita.

## 8. Perikanan

Perairan sebelah timur Jepang dipengaruhi arus laut panas (kurosyiwo) dan arus dingin (oyasyiwo) sehingga daerah ini menjadi tempat perikanan terbesar bagi negara Jepang. Selain perairan yang bagus ditunjang oleh alat dan perlengkapan perikanan yang modern, sehingga produk perikanan ini dapat memenuhi kebutuhan

penduduk Jepang.

## 9. Pertambangan

Jepang merupakan negara yang miskin barang tambang, sehingga kebutuhan barang tambang didatangkan dari negara lain seperti minyak, gas bumi, batu bara, bijih besi, tembaga, timah, seng, belerang batu kapur dan gypsum.

## 10. Perindustrian

Kemampuan orang Jepang dalam ilmu pengetahuan dan teknologi dapat bersaing, sehingga industri yang dihasilkan mempunyai kualitas yang baik. Produk perindustrian Jepang seperti: elektronik, bahan kimia dasar, tekstil industri berat dan otomotif

## B. Tiongkok / People's Republic of China

Tiongkok merupakan salah satu negara yang berada di Benua Asia. Coba ambillah peta dunia, lalu amatilah letak negara Tiongkok. Tiongkok memiliki nama internasional People's Republic of China. Dan memiliki julukan Negeri Tirai Bambu.



Gambar 2.4 Peta Negara Tiongkok  
sumber : thegorbalsla.com

## 1. Bentuk pemerintahan

Bentuk pemerintahan Tiongkok adalah Republik Komunis. Kepala negara Tiongkok adalah presiden. Serta kepala pemerintahannya adalah perdana Menteri. Hari kemerdekaan dirayakan pada 1 Oktober 1949. Ibu kota Tiongkok adalah Beijing (Peking = sebelumnya).

## 2. Letak dan luas

Negara Tiongkok ini terletak di wilayah Asia Timur. Secara geografis, negara Tiongkok terletak antara 18° Lintang Utara (LU) sampai 54° Lintang Utara (LU) dan 73° Bujur Timur (BT) sampai 135° Bujur Timur (BT). Negara Tiongkok ini terletak di bagian Timur benua Asia yang menghadap ke Samudra Pasifik. Luas negara Tiongkok ini sekitar 9.592.961 km<sup>2</sup>. Negara Tiongkok ini merupakan daratan yang memiliki batas-batas wilayah sebagai berikut:

- ▶ Sebelah utara berbatasan dengan Mongolia dan Rusia.
- ▶ Sebelah timur berbatasan dengan Laut Tiongkok Timur, Laut Timur, Korea Utara dan Laut Kuning.
- ▶ Sebelah selatan berbatasan dengan Nepal, Bhutan, India, Myanmar, Laos, dan Vietnam.
- ▶ Sebelah barat berbatasan dengan Pakistan, Kazakstan, Tadzikistan, dan Afganistan.

## 3. Iklim

Iklim yang berhembus di negara Tiongkok sangat bervariasi. Iklim di wilayah Tiongkok Utara ini terpengaruh oleh iklim arktik yang dingin dan mengalami musim dingin. Kemudian, Tiongkok bagian tengah dan selatan memiliki iklim sub tropis.

Tiongkok di bagian timur di mana terdapat Gurun Gobi memiliki iklim kering. Sedangkan, suhu udara rata-rata di negara Tiongkok bagian tengah dan selatan adalah 40 C sampai 160 C sementara di wilayah Tiongkok bagian utara adalah -50 C sampai 260 C.

## 4. Kondisi alam

Secara garis besar, bentang alam negara Tiongkok ini terbagi menjadi dua bagian yang sangat kontras, yaitu Tiongkok utara yang relatif datar dan tanahnya berdebu serta Tiongkok Selatan yang relatif kasar dan banyak dijumpai pegunungan.

Sungai yang terdapat di wilayah Tiongkok Selatan yaitu sungai Salween, sungai Mekong, sungai Yangtze, dan sungai Yalung. Danau yang banyak dijumpai di

negara Tiongkok timur, antara lain Danau Poyang dengan luas 2800 km<sup>2</sup> dan Danau Dongting dengan luas 4800 km<sup>2</sup>.

Secara umum, kondisi alam di negara Tiongkok ini dapat dibedakan menjadi empat wilayah utama, yaitu sebagai berikut.

- ▶ Stepa Plato Mongolia
- ▶ Basin-basin atau cekungan Gurun Sinkiang.
- ▶ Lembah-lembah sungai besar dan tanah tinggi Tiongkok sebelah Timur atau Dataran Tinggi Manchuria.
- ▶ Plato dan pegunungan tinggi Tibet.

## 5. Flora dan fauna

Di Tiongkok, hampir semua spesies tanaman yang ada di bagian utara planet ini hidup, dari vegetasi tropis, melalui zona beriklim hingga yang dingin. Dalam hal fauna, 10% dari kehidupan hewan di dunia terkonsentrasi di Tiongkok.

### ▶ Perwakilan Bunga dari Tiongkok

Bunga peony, bunga ini dianggap sebagai bunga nasional. Terletak di bagian barat negara itu. Bunganya berwarna mencolok dan akarnya digunakan dalam pengobatan tradisional Tiongkok.

Bunga Teratai, bunga ini mewakili dalam tradisi Tiongkok kemurnian, kehormatan, dan umur panjang. Tumbuh di daerah rawa-rawa negara ini dan sering digunakan dalam penyembuhan ayurvedic.

The Safflower, meskipun tanaman ini juga ditemukan di India, di Tiongkok ia dibudidayakan untuk keperluan kuliner dan pengobatan. Di Amerika Latin dikenal sebagai kunyit.

Berry Goji, juga dikenal sebagai Chinese Wolfberry, itu adalah tanaman yang buahnya telah digunakan sejak zaman kuno dalam pengobatan Tiongkok tradisional. Dalam banyak kasus itu dianggap sebagai dasar umur panjang.



Gambar 2.5 dari atas, Bunga Peony, teratai, Safflower dan buah berry goji  
Sumber : google.com

► Perwakilan Fauna dari Tiongkok

Monyet rambut emas. Hewan yang unik dan aneh ini tingginya antara 60 dan 70 cm. Hidung pesek dan bulunya yang indah membuatnya menjadi primata yang sangat aneh dan unik.

Burung bertelinga coklat. Itu terletak di bagian utara Tiongkok. Ia memiliki “berkas” halus dari dasar paruhnya yang memanjang di sekitar wajahnya, yang membuatnya mirip dengan lingkaran hitam.

Lumba-lumba bendera putih. Ini adalah satu-satunya lumba-lumba air sungai di Tiongkok, juga disebut Baiji. Itu adalah lumba-lumba dengan hidung panjang dan kelengkungan kecil di ujungnya. Habitat tradisionalnya adalah Sungai Yangtze.

Harimau Tiongkok. Itu terletak di selatan negara itu dan merupakan spesies yang jauh lebih kecil daripada yang dikenal di bagian lain dunia.

6. Penduduk

Pada pertengahan tahun 2006, jumlah penduduk di negara Tiongkok adalah 1.311.400.000 jiwa. Angka kelahiran di negara Tiongkok 12, sedangkan angka kematian negara Tiongkok 7, dan pertumbuhan penduduk rata-rata setiap tahun mencapai 0,6 %. Kepadatan penduduk negara Tiongkok yaitu 136 jiwa/ km<sup>2</sup>.

Suku bangsa di negara Tiongkok terdiri dari suku Tiongkok han yang jumlahnya mencapai 94 % dan sisanya merupakan suku Mongol, Korea, Turki, serta Manchu.

Agama yang dianut oleh sebagian besar penduduk negara Tiongkok yaitu agama Kong Hu Cu, Budha, dan Tao. Konghucu bukan suatu agama, melainkan suatu filsafat moral dan sosial. Di Provinsi Xiang yang beribukota di Urumchi, terdapat suku Uighur yang menganut agama Islam.

7. Perekonomian

Negara Tiongkok pada saat ini mulai tumbuh dan menjadi salah satu kekuatan ekonomi di Asia. Pendapatan per kapita negara Tiongkok pada tahun 2006 adalah US \$6.600. Negara Tiongkok mengembangkan kegiatan perekonomian pada sektor-sektor di bawah ini.

Pertanian. Hasil pertanian utama dari penduduk Tiongkok yaitu beras, gandum, kapas, dan ubi. Di negara Tiongkok ini terdapat dua wilayah pertanian, yaitu terletak di Tiongkok Utara dan Tiongkok Selatan. Tiongkok Utara merupakan wilayah di mana pertanian gandum ditanam pada saat musim semi di sepanjang Mongolis masuk ke wilayah Manchuria.



Gambar 2.6 Industri Manufaktur di Tiongkok  
sumber : ekonomi.bisnis.com

Pertambangan. Negara Tiongkok ini kaya akan barang tambang. Barang tambang tersebut, antara lain batu bara, bijih besi, mangan, timah, merkuri atau raksa, timah hitam, seng, batu bara, dan minyak bumi.

Industri. Hasil industri yang dimiliki oleh negara Tiongkok ini, antara lain tekstil, semen, pupuk, alat – alat pertanian, lokomotif, kapal, traktor, dan truk. Kawasan industri di negara Tiongkok ini terpusat di wilayah pantai, terdiri dari Kota Shanghai, Beijing, Tianjin, dan Kota Shen Yang.

Perdagangan. Barang – barang yang diimpor oleh negara Tiongkok ini, antara lain mesin, logam, kapas, biji- bijian. Barang ekspor utamanya, antara lain tekstil, kendaraan bermotor, teh, buah – buahan, sayuran, dan minyak bumi.

Beberapa kota penting di Tiongkok adalah: Beijing, Kanton, Shanghai, Wuhan, dan Shenyang. Hubungan dagang antara Indonesia-Tiongkok sudah terjadi sejak lama. Ekspor Indonesia ke Tiongkok berupa teh, kopi, timah, tembaga, dan kayu lapis. Adapun impor Indonesia dari Tiongkok meliputi: alat-alat pertanian, barang-barang elektronik, mesin-mesin, sepeda, mobil, dan sepeda motor.

### C. India.

Negara ini dikenal dengan industri film yang cukup maju, tetapi belum mampumendongkrak negaranya menjadi suatu negara maju.



Gambar 2.7 Peta Negara India  
sumber : Wikipedia.org

#### 1. Bentuk pemerintahan

India merupakan negara yang menganut sistem pemerintahan Republik Federal Parlementer yaitu sistem pemerintahan yang kepala negaranya adalah Presiden yang dipilih secara tidak langsung oleh Parlemen untuk masa jabatan 5 tahun. Sedangkan kepala pemerintahannya adalah seorang Perdana Menteri yang dipilih melalui pemilihan umum legislatif setiap 5 tahun sekali. Perdana Menteri India biasanya adalah pemimpin partai atau koalisi besar yang memenangi pemilihan umum legislatif.

#### 2. Letak dan luas

Secara astronomis, negara India merupakan kawasan yang secara astronomis terletak di antara 8° Lintang Utara (LU) sampai 33° Lintang Utara (LU) dan di antara 68° Bujur Timur (BT) sampai 89° Bujur Timur (BT).

Secara geografis, negara India memiliki batas-batas wilayah sebagai berikut

- ▶ Di sebelah timur negara India berbatasan dengan Myanmar dan Bangladesh.
- ▶ Sebelah utara negara India berbatasan dengan Pegunungan Himalaya, Tiongkok, dan Nepal.
- ▶ Pada sebelah selatan negara India berbatasan dengan Samudra Hindia dan Sri Lanka.
- ▶ Di sebelah barat negara India berbatasan dengan Pakistan dan Afganistan.

Luas wilayah negara India secara keseluruhan yaitu 3.166.414 km<sup>2</sup>. Negara India ini terbagi menjadi beberapa wilayah administrasi, antara lain Punjab, Madhya Pradesh, Gujarat, Maharashtra, dan Madras.

#### 3. Iklim

Bentuk wilayah negara India merupakan bentang topografi yang tidak biasa dan posisi geografisnya menyebabkan adanya perbedaan iklim. Pada wilayah negara India memiliki iklim tropik dan sub tropik dengan perbedaan suhu di antara kedua musim tersebut.

Pada dataran bagian utara memiliki jangkauan temperatur yang jauh lebih besar dengan suhu lebih dingin pada musim dingin dan lebih panas pada musim panas. Di wilayah pegunungan memiliki musim dingin terdingin dan musim panas terdingin.

Pertambahan ketinggian yang tajam di wilayah pegunungan, mengakibatkan perubahan tipe iklim dari sub tropik ke iklim polar yang terjadi hanya jarak dalam beberapa mil

#### 4. Kondisi alam

Bentang alam negara India dibedakan menjadi tiga kawasan, yaitu Daerah Pegunungan Himalaya, Dataran Rendah Gangga, dan Semenanjung bagian selatan. Masing-masing bentang alam di wilayah tersebut dapat dijelaskan sebagai berikut.

Daerah Pegunungan Himalaya. Daerah pegunungan Himalaya terdiri dari deretan pegunungan dengan dataran tinggi dan lembah yang besar, antara lain Dataran Tinggi Kashmir dan Lembah Kulu. Wilayah pegunungan Himalaya, termasuk kaki gunungnya dipergunakan untuk permukiman. Pertanian dan penggembalaan merupakan mata pencarian utama penduduk di negara India.

Dataran Rendah Gangga. Dataran rendah Gangga terbentuk oleh endapan Sungai Indus, Sungai Gangga, dan Sungai Brahmanaputra. Oleh sebab itu, dataran rendah Gangga ini merupakan wilayah aluvial dari aliran ketiga sungai yang telah



Gambar 2.8 Perayaan di Sungai Gangga  
sumber : amazine.co

disebutkan sebelumnya. Lembah sungai gangga ini merupakan daerah pertanian terpenting yang ada di negara India. Hal tersebut disebabkan lahannya cukup subur.

Pada wilayah semenanjung bagian selatan sering pula dinamakan Plato Dekan. Pada daerah ini pula terdapat beberapa aliran sungai, antara lain Sungai Penner dan Sungai Godavari. Plato dekan atau dataran tinggi Dekan ini merupakan wilayah yang sangat luas yang terletak di semenanjung negara India. Pada wilayahnya berbatu tetapi memiliki kandungan tanah yang subur.

#### 5. Flora dan fauna

Berbagai kondisi iklim di India memungkinkan variasi yang besar dalam hal vegetasi. Di India ada hutan hujan tropis, hutan gugur tropis, vegetasi padang pasir, hutan bakau, dan hutan alpine.

Menurut perkiraan angka, di India ada lebih dari 500 spesies mamalia, lebih dari 200 spesies burung dan spesies serangga, reptil dan total ikan sekitar 30.000. Beberapa mamalia yang mendiami wilayah ini adalah gajah, singa putih, singa umum, harimau bengal, bison, kambing gunung, rusa, monyet, antelop, sloth, hyena bergaris, rubah, serigala, serigala, serigala, kerbau, dan kerbau.

Di antara burung-burung itu adalah burung merak (yang merupakan burung nasional), burung beo, merpati, burung bangau, burung parkit, angsa, burung pegar, burung hantu, burung enggang, elang berujung pendek, kuntul, pelikan, bangau dan ibis.

Tempat perlindungan India adalah rumah bagi kadal (varanus), kura-kura air tawar, búngaros (ular beracun), kobra kerajaan, buaya dan ular sanca.

#### 6. Penduduk

Penduduk di negara India sekitar 82,64 % merupakan penganut agama Hindu dan kira – kira 11,35 % beragama Islam. Agama lain yang dianut oleh sebagian kecil penduduk di negara India, yaitu Kristen, Sikh, Buddha, dan Jainisme.

Penduduk asli negara Indi ini merupakan bangsa Dravida yang tinggal di daerah selatan. Pada saat ini, mayoritas penduduk negara India berasal dari ras Kaukasoid yang lazim dinamakan dengan bangsa Arya atau bangsa Hindi.

Jumlah penduduk negara India sampai dengan tahun 2000 mencapai 982, 2 jiwa dengan tingkat pertumbuhan penduduk rata- rata per tahun mencapai 2, 59%. Penduduk negara India pada umumnya tersebar di daerah pedesaan, mencapai 72 %.



Gambar 2.8 Perayaan di Sungai Gangga  
sumber : amazine.co

yaitu kota Bombay, kota Kalkuta, kota New Delhi, dan kota Madras.

Masyarakat negara India mengenal adanya sistem kasta atau sistem tingkatan dalam masyarakat. Di negara India ini terdapat empat kasta mulai dari kasta yang tertinggi sampai pada kasta yang terendah, yaitu Brahmana, Ksatria, Waisa, dan Sudra.

#### 7. Perekonomian

Sebenarnya India merupakan salah satu negara yang tumbuh cepat dan bisa menjadi salah satu negara yang terkemuka di dunia. Akan tetapi, pertumbuhan ekonomi yang berhasil diperoleh ini harus dibagi oleh jumlah penduduk yang besar, yang tingkat pertumbuhannya sangat tinggi. Inilah yang menyebabkan India tetap menjadi negara miskin di dunia.



Sektor-sektor yang cukup menarik dan berpotensi memicu perekonomian India sebagai berikut.

a. Pertanian

India termasuk negara agraris karena hampir 75% penduduknya bekerja di sektor pertanian. Dahulu lahan pertanian di India berukuran kecil dan tidak efisien. Pertumbuhan penduduknya ternyata lebih cepat daripada kemampuannya untuk meningkatkan persediaan pangan. Pemerintahpun melancarkan program Revolusi Hijau guna meningkatkan produksi pertanian. Hasil produksi pangan khususnya padi-padian mulai meningkat lebih cepat daripada laju pertumbuhan penduduk. Surplus ini disimpan untuk mencegah kelaparan. Sekarang India sudah mampu menjadi negara pengekspor padi. Punjab dan Lembah Gangga merupakan produsen padi-padian. Hasil pertanian lainnya adalah gandum, teh, yute, kopi, kapas, lada, dan karet.

1) Pertambangan

India memiliki cukup banyak barang tambang yang mempunyai peranan penting. Misalnya batu bara di Lembah Sungai Damodar, bijih besi di Goa dan Misore, mangan di Nadyan Pradesh, mika di Bihar, serta minyak bumi di Assam dan lepas pantai Mumbai.

2) Industri

Industrialisasi di India telah dimulai sejak zaman penjajahan Inggris. Akan tetapi, sebuah negara akan menjadi sebuah negara industri yang maju pesat jika didukung oleh sumber daya manusia yang berkualitas. Hal ini tidak terjadi di India. Industrialisasi yang terjadi memang didukung oleh banyak sumber daya manusia, tetapi sebagian besar mereka hanya bekerja sebagai buruh dengan upah yang rendah. Industrialisasi di India didukung oleh kekayaan sumber bijih besi, mangan, batu bara, dan seng. Di India juga terdapat endapan minyak di lepas pantai barat laut Mumbai serta di timur laut negara bagian Assam. Di antara industri terkemukanya adalah tekstil dan baja. Selain itu juga terdapat industri mesin, peralatan transportasi, semen, dan produk rami.

D. Arab Saudi



Gambar 2.10 Peta Negara Arab Saudi  
sumber : lib.utexas.edu

1. Bentuk pemerintahan

Negara Arab Saudi merupakan negara yang menggunakan sistem Kerajaan atau Monarki. Hukum yang digunakan negara Arab Saudi merupakan hukum syariat Islam. Basic Law of Government merupakan sistem pemerintahan yang ditetapkan pada tahun 1992.

Basic Law of Government ini mengatur sistem pemerintahan. Kemudian, mengatur hak dan kewajiban pemerintah serta warga negara. Raja merangkap sebagai Perdana Menteri. Selain itu, raja juga merangkap sebagai Panglima Tinggi Angkatan Bersenjata Arab Saudi.

Kekuasaan kerajaan di negara Arab Saudi ini diwariskan pada anak dan cucu dari pendiri Arab Saudi. Sedangkan, anak cucu yang paling mampu dari pendiri Arab Saudi yaitu Abdul Aziz bin Abdul Rahman Al-Saud.

## 2. Letak dan luas

Negara Arab Saudi ini berada di Semenanjung Arab di antara Laut Merah di sebelah Barat, tepatnya 1760 km dan Teluk Arab di sebelah timur, tepatnya 560 km. Luas negara Arab Saudi berkisar 2,15 juta km<sup>2</sup>. Adapun batas – batas negara Arab Saudi, yaitu sebagai berikut:

- ▶ Sebelah Barat Laut berbatasan dengan negara Yordania.
- ▶ Sebelah utara berbatasan dengan negara Irak dan Kuwait.
- ▶ Sebelah timur berbatasan dengan Bahrain, Qatar, Uni Emirat Arab, dan Oman.
- ▶ Sebelah selatan negara berbatasan dengan negara Yaman.

## 3. Iklim

Arab Saudi mengalami dua macam iklim, yaitu iklim tropis (dialami di daerah bagian selatan) dan iklim subtropis (dialami daerah bagian utara). Perbedaan suhu harian pada waktu siang dan malam hari sangat besar. Suhu pada siang hari sangat panas diaman bisa mencapai 49°C, sedangkan suhu pada malam hari sangat dingin dimana bisa mencapai 2°C.

Curah hujan di Arab Saudi cukup rendah dan bervariasi. Sekitar 90% wilayah Arab Saudi mendapat hujan rata-rata hanya 100 mm setahun. Bahkan, beberapa bagian di gurun Rub Al-Khali tidak pernah terjadi hujan.

## 4. Kondisi alam

Permukaan terendah di sini ialah di Teluk Persia pada 0 m dan Jabal Sauda' pada 3.133 m. Arab Saudi terkenal sebagai sebuah negara yang datar dan mempunyai banyak kawasan gurun. Gurun yang terkenal ialah di sebelah selatan Arab Saudi yang dijuluki "Daerah Kosong" (dalam bahasa Arab, Rub al Khali), kawasan gurun terluas di dunia.

Namun di bagian barat dayanya, terdapat kawasan pegunungan yang berumput dan hijau. Hampir tidak ada sungai atau danau permanen di negeri ini, tetapi terdapat sangat banyak wadi. Beberapa daerah subur dapat ditemukan



Gambar 2.11 Oase di tengah padang pasir  
sumber : panduanwisata.id

dalam endapan aluvial di wadi, basin dan oasis. Kekayaan yang sangat besar yang didapat dari minyak, sangat membantu permainan dan pembentukan kekuatan peran dari keluarga Kerajaan Saudi baik di dalam maupun luar negeri.

## 5. Flora dan fauna

Sebagian besar wilayah Arab Saudi berupa tanah kering dan padang pasir yang kekurangan air. Sehingga sangat terbatas untuk dapat didiami oleh flora dan fauna. Flora dan Fauna yang dapat kita jumpai yakni unta, kambing gurun (ibex), kucing caracal, leopard, dan tumbuhan kaktus dan kurma

## 6. Penduduk

Keluarga suku Quraisy yang dikenal sebagai bangsawan dan pemimpin bangsa Arab, turunan pendiri dan pemelihara bangunan suci Ka'bah, Nabi Ibrahim dan putranya Nabi Ismail, di mana Nabi Muhammad adalah salah satu dari Bani Hasyim Qurays, di wilayah Hijaz, sekarang merupakan salah satu suku penduduk di Arab Saudi. Penduduk Arab Saudi adalah mayoritas berasal dari kalangan bangsa Arab sekalipun juga terdapat keturunan dari bangsa-bangsa lain serta mayoritas beragama Islam.

## 7. Perekonomian

Wilayah ini dahulu merupakan wilayah perdagangan terutama di kawasan Hijaz antara Yaman-Mekkah-Madinah-Damaskus dan Palestina. Pertanian dikenal saat itu dengan perkebunan kurma dan gandum serta peternakan yang menghasilkan daging serta susu dan olahannya. Pada saat sekarang digalakkan sistem pertanian terpadu untuk meningkatkan hasil-hasil pertanian.

Perindustrian umumnya bertumpu pada sektor Minyak bumi dan Petrokimia terutama setelah ditemukannya sumber sumber minyak pada tanggal 3 Maret 1938. Selain itu juga untuk mengatasi kesulitan sumber air selain bertumpu pada sumber air alam (oase) juga didirikan industri desalinasi Air Laut di kota Jubail. Sejalan dengan tumbuhnya perekonomian maka kota-kota menjadi tumbuh dan berkembang.

Arab Saudi memiliki ladang minyak-yang melatar belakangi ekonomi dengan pengawasan yang ketat dari pihak pemerintah dari segala aktivitas perekonomian. Arab Saudi setidaknya memproses 18% kebutuhan petroleum dunia, mendapat gelar sebagai eksportir petroleum terbesar di dunia, dan memainkan peranan sebagai ketua OPEC untuk beberapa tahun. Sektor petroleum juga merupakan penyumbang untuk pendapatan negara Saudi yang terbesar.

Kota-kota yang terkenal di wilayah ini selain kota suci Mekkah dan Madinah adalah Kota Riyadh sebagai ibu kota kerajaan, Dammam, Dhahran, Khafji, Jubail, Tabuk dan Jeddah.

## PENUGASAN 2

Bacalah Kembali materi modul unit 2. Analisislah mengapa negara-negara seperti Jepang, Tiongkok, dan Arab Saudi bisa berkembang menjadi negara maju? Bandingkan dengan Indonesia. Menurut Anda apakah bisa Indonesia menjadi negara maju dengan perbandingan tersebut?

### ■ Tujuan

Melalui penugasan ini diharapkan Anda dapat:

1. Mengidentifikasi ciri-ciri negara maju.
2. Membandingkan karakteristik negara di Asia dengan Indonesia.
3. Menganalisis potensi Indonesia menjadi negara maju

### ■ Media

Untuk melakukan penugasan ini, Anda diminta untuk menyiapkan:

1. Modul pembelajaran atau media belajar lainnya untuk mendapatkan informasi ketampakan alam
2. Alat tulis

### ■ Langkah-langkah

Untuk mengerjakan penugasan 2, Anda dapat mengikuti langkah-langkah berikut:

1. Bacalah dengan seksama tiap-tiap negara yang ada pada modul unit 2.
2. Analisislah faktor-faktor yang menjadikan negara Jepang, Tiongkok, dan Arab Saudi menjadi negara maju.
3. Dari faktor-faktor tersebut yang sudah Anda temukan, bandingkan dengan Indonesia. Apakah Indonesia memiliki faktor-faktor tersebut?
4. Tuliskan pendapat Anda, dari perbandingan tersebut apakah Indonesia dapat menjadi negara maju?
5. Kumpulkan hasil penugasan Anda kepada Tutor untuk mendapatkan umpan balik.

Contoh Tabel

No	Negara	Faktor menjadi Negara Maju	Perbandingan dengan Indonesia
1	Tiongkok	Jumlah penduduk besar .....	Jumlah penduduk juga besar .....
2	Jepang		
3	Arab Saudi		



## Soal Latihan

### A. Pilihlah Jawaban yang Paling Tepat dengan Memberi Tanda (X) A, B, C dan D!

1. Jepang merupakan negara kepulauan yang terletak di Asia ...
  - a. Barat
  - b. Tengah
  - c. Timur
  - d. Selatan
2. Penduduk asli negara Jepang adalah bangsa ....
  - a. Ainu
  - b. Arya
  - c. Aborigin
  - d. Alps
3. Berikut merupakan sektor andalan Jepang untuk menopang perekonomian negara, kecuali....
  - a. Perikanan
  - b. Perindustrian
  - c. Perdagangan
  - d. Pertambangan
4. Sebagian besar wilayah Arab Saudi berbentuk ....
  - a. Dataran tinggi
  - b. Dataran rendah
  - c. Gurun
  - d. Padang rumput

5. Ibukota negara Tiongkok terletak di ....
  - a. Beijing
  - b. Shanghai
  - c. Guangzhou
  - d. Wuhan
6. Berikut yang bukan bunga atau tanaman nasional Tiongkok adalah ....
  - a. Teratai
  - b. Sakura
  - c. Berry Goji
  - d. Peony
7. Bentuk pemerintahan negara Tiongkok adalah ....
  - a. Republik demokratis
  - b. Republik serikat
  - c. Republik komunis
  - d. Republik liberal
8. Suku bangsa yang banyak mendiami India utara adalah bangsa ....
  - a. Arya
  - b. Dravida
  - c. Govinda
  - d. Mediterania
9. India merupakan salah satu negara dengan jumlah penduduk terbanyak di dunia. Namun persebaran penduduk di India tidak merata. Berikut yang tidak termasuk kota terpadat di India adalah ....
  - a. Madras
  - b. Kalkuta
  - c. Bengaluru
  - d. Mumbai
1. Perekonomian Arab Saudi sangat bertumpu pada sektor....
  - a. Pertambangan minyak
  - b. Devisa jamaah haji
  - c. Perdagangan kurma
  - d. Pajak dalam negeri

## B. Jawablah Soal Uraian Ini dengan Benar!

1. Jelaskan bagaimana etika pekerja di Jepang?
2. Sebutkan batas-batas negara Tiongkok!
3. Pembangunan dan perekonomian di India sudah cukup maju, namun mengapa masih banyak penduduk miskin di India?
4. Bagaimana sistem pemerintahan di Arab Saudi?
5. Setelah mempelajari unit 2 ini, biasakah Indonesia menjadi negara maju seperti negara-negara tersebut? Jelaskan pendapat Anda!

## Rangkuman

- ▶ Benua adalah hamparan daratan yang sangat luas yang pada bagian tengahnya bersifat kering karena tidak mendapat pengaruh dari angin laut yang basah dan lembab
- ▶ Bumi terdiri atas enam daratan luas atau benua. Keenam benua itu adalah Benua Asia, Afrika, Eropa, Amerika, Australia, dan Antartika. Setiap benua memiliki karakteristik masing-masing.
- ▶ Negara-negara maju di benua Eropa contohnya adalah Jerman, Inggris Perancis, dan Belanda. Negara-negara maju dan berkembang di Afrika adalah Mesir dan Afrika Selatan serta Kenya dan Angola. Negara maju dan berkembang di benua Amerika adalah Amerika Serikat, Kanada, Meksiko dan Brazil. Benua Australia terdapat negara Australia yakni sebagai negara maju.
- ▶ Contoh negara maju di Asia adalah, Jepang, Tiongkok, dan Arab Saudi, sedangkan India adalah contoh negara berkembang.
- ▶ Jepang, beribukota di Tokyo mendapat julukan negeri matahari terbit, terletak di Asia Timur dan menghadap langsung ke Samudra Pasifik. Sektor penunjang yang membuat Jepang negara maju adalah perkembangan teknologi disegala bidang sector perekonomian.
- ▶ Tiongkok, beribukota di Beijing mendapat julukan negeri tirai bamboo dan terletak di Asia Timur. Jumlah penduduk yang sangat banyak dan wilayah yang sangat luas merupakan sumber keuntungan dari Tiongkok untuk mengembangkan negaranya dengan penyerapan tenaga kerja dan industri masal.
- ▶ India, beribukota di New Delhi dan terletak di Asia Selatan serta menghadap ke Samudra Hindia di selatan dan Pegunungan Himalaya di utara. Terdapat 2 suku bangsa besar di India yakni bangsa Arya di India Utara dan Dravida di India Selatan. Sektor pertanian dan industri menjadi andalan India untuk bersaing dengan negara lain.
- ▶ Arab Saudi memiliki ibukota di Riyadh dan terletak di semenanjung Arab, Asia Barat Daya. Arab Saudi mengandalkan tambang minyak untuk mengembangkan perekonomian di negara tersebut. Selain itu devisa dari Haji juga menyumbang pendapatan bagi Arab Saudi.



## Kunci Jawaban, Pembahasan, dan Rubrik Penilaian

### Penilaian dan Kunci Jawaban Unit 1

#### Penugasan 1

1. Menemutunjukkan benua di dunia serta menjelaskan karakteristik masing-masing benua

No	Benua	Kriteria	Rentang Skor
1	Asia	Menunjukkan dengan benar dan sesuai warna Penjelasan karakteristik benua	0-2 0-3
2	Eropa	Menunjukkan dengan benar dan sesuai warna Penjelasan karakteristik benua	0-2 0-3
3	Afrika	Menunjukkan dengan benar dan sesuai warna Penjelasan karakteristik benua	0-2 0-3
4	Amerika	Menunjukkan dengan benar dan sesuai warna Penjelasan karakteristik benua	0-2 0-3
5	Australia	Menunjukkan dengan benar dan sesuai warna Penjelasan karakteristik benua	0-2 0-3
6	Antartika	Menunjukkan dengan benar dan sesuai warna Penjelasan karakteristik benua	0-2 0-3
<b>Jumlah Skor Maximum</b>			<b>30</b>

$$\text{Nilai anda} = \frac{\text{Skor yang anda peroleh}}{30} \times 100$$

2. Presentasi Laporan

#### Rubrik Penilaian Keterampilan Presentasi

No	Aspek yang dinilai	Kriteria	Skor
1	Sistematika Presentasi	• Materi presentasi disajikan secara runtut dan Sistematis	4
		• Materi presentasi disajikan secara runtut tetapi kurang sistematis	3
		• Materi presentasi disajikan secara kurang runtut dan tidak sistematis	2
		• Materi presentasi disajikan secara tidak runtut dan tidak sistematis	1

2	Penggunaan bahasa	<ul style="list-style-type: none"> <li>• Bahasa yang digunakan sangat mudah dipahami</li> <li>• Bahasa yang digunakan cukup mudah dipahami</li> <li>• Bahasa yang digunakan agak sulit dipahami</li> <li>• Bahasa yang digunakan sangat sulit dipahami</li> </ul>	4 3 2 1
3	Ketepatan intonasi dan kejelasan artikulasi	• Penyampaian materi disajikan dengan intonasi yang tepat dan artikulasi/lafal yang jelas	4
		• Penyampaian materi disajikan dengan intonasi yang agak tepat dan artikulasi/lafal yang agak jelas	3
		• Penyampaian materi disajikan dengan intonasi yang kurang tepat dan artikulasi/lafal yang kurang jelas	2
		• Penyampaian materi disajikan dengan intonasi yang tidak tepat dan artikulasi/lafal yang tidak jelas	1
4	Ketepatan intonasi dan kejelasan artikulasi	• Mampu mempertahankan dan menanggapi pertanyaan/sanggahan dengan arif dan bijaksana	4
		• Mampu mempertahankan dan menanggapi pertanyaan/sanggahan dengan cukup baik	3
		• Kurang mampu mempertahankan dan menanggapi pertanyaan atau sanggahan dengan baik	2
		• Sangat kurang mampu mempertahankan dan menanggapi pertanyaan	1
<b>Jumlah Skor Maksimum</b>			<b>16</b>

$$\text{Nilai anda} = \frac{\text{Skor yang anda peroleh}}{16} \times 100$$

Interval Nilai	Keterampilan
90 < X ≤ 100	A
80 < X ≤ 90	B
70 < X ≤ 80	C
0.00 < X ≤ 70	D

Jadi,

$$\text{Nilai penugasan 1} = \frac{\text{nilai tabel 1} + \text{nilai presentasi}}{2} \times 100$$

## Latihan Soal Unit 1

### A. Pilihan Ganda

1. Kunci B

Tidak ada arti khusus untuk jawaban Tetis. Sedangkan Laurasia adalah pecahan benua Pangea sebelah utara dan Gondwana adalah pecahan benua Pangea di sebelah selatan.

2. Kunci C

Benua Eropa seluruh wilayahnya berada pada bumi bagian utara. Benua Afrika dan Asia wilayahnya terbagi menjadi 2 yaitu di wilayah utara dan selatan. Hanya benua Australia saja yang wilayahnya seluruhnya berada di bumi bagian selatan.

3. Kunci A

Penduduk benua Eropa dapat dibedakan menjadi 5 yaitu suku bangsa Nordik, Alpina, Mediteran, Slavia dan Dinara. Sedangkan ras yang ada di benua Amerika adalah ras Eskimo dan Indian. Dan penduduk di Benua Asia terdiri dari ras Kaukasia, Mongolia dan sebagian kecil Negro. Penduduk benua Afrika didominasi 70% oleh ras Negroid.

4. Kunci D

Jelas. Tidak ada arti khusus untuk pilihan A, B dan C

5. Kunci A

Tidak ada pembagian wilayah barat pada benua Amerika. Amerika Latin merujuk pada wilayah di benua Amerika yang sebagian besar penduduknya masih berbahasa Spanyol dan Portugis. Sedangkan Anglo Amerika adalah istilah yang digunakan untuk mendeskripsikan bagian dari Amerika di mana bahasa Inggris menjadi bahasa utama, atau memiliki hubungan sejarah, etnis, bahasa dan budaya dengan Inggris pada umumnya.

6. Kunci B

Jelas. Tidak ada pembahasan khusus untuk pilihan A, C dan D

7. Kunci A

Jelas. Sesuai dengan materi bahwa Alfred W. Genet berasal dari Jerman.

8. Kunci B

Atlantik dan Arktik adalah nama samudera di bumi. Sedangkan Benua Asia merupakan benua yang cukup padat penduduknya.

9. Kunci B

Antartika merupakan benua yang tidak berpenghuni. Sedangkan Eropa dan Afrika merupakan benua yang terdiri dari banyak negara didalamnya.

10. Kunci D

Sydney merupakan ibukota negara bagian New South Wales. Darwin merupakan ibukota teritorial Australia utara. Dan Melbourne merupakan ibukota negara bagian Victoria.

### B. Uraian

1. Batas wilayah Benua Asia sebelah utara adalah Samudra Arktik; batas sebelah selatan adalah Samudra Hindia; batas sebelah barat adalah Benua Eropa; dan batas sebelah timur adalah Samudra Pasifik
2. Penduduk benua Eropa dapat dibedakan menjadi 5 yaitu : Suku bangsa Nordik yang memiliki ciri-ciri bermata biru dan berambut sangat pirang yang tinggal di wilayah utara seperti Jerman, Belanda dan Semenanjung Skandinavia; suku bangsa Alpina, memiliki ciri-ciri bermata cokelat dan berambut pirang yang tinggal di wilayah tengah seperti Perancis, Swiss dan Belgia; suku bangsa Mediteran memiliki ciri bermata agak kecoklatan dan berambut hitam bergelombang yang tinggal di Italia, Yunani dan Spanyol; suku bangsa Slavia memiliki ciri bermata abu-abu dan biru serta berambut pirang agak keputihan yang biasa tinggal di wilayah Bulgaria, Slovakia dan Yugoslavia; terakhir suku bangsa Dinara yang memiliki ciri berambut gelap dan biasa tinggal di wilayah Rumania
3. Mesir memiliki 2 kota penting yang menjadi kota pelabuhan, yaitu Iskandariah yang merupakan kota terbesar kedua di Mesir dan kota pelabuhan utama serta Port Said yang menjadi kota pelabuhan di ujung utara Terusan Suez. Sementara itu Dua kota penting di Republik Afrika Selatan adalah Johannesburg yang merupakan kota terbesar di Republik Afrika Selatan dan menjadi pusat pertambangan, industri, dan perdagangan; serta Durban yang menjadi kota pelabuhan terbesar di wilayah Afrika Selatan.
4. Pertama, Benua Antartika dikelilingi oleh Samudra Antartika atau *Southern Ocean*. *Kedua*, Antartika merupakan benua yang tidak dihuni oleh manusia secara permanen karena hampir seluruh wilayahnya tertutup salju. *Ketiga*, Merupakan zona bebas yang artinya tidak dimiliki oleh siapapun.
5. Bagian barat bergeser terus ke arah barat menjadi Benua Amerika Selatan.

- ▶ Bagian timur bergerak ke timur menjadi Benua Afrika.
- ▶ Bagian yang lebih kecil di bagian timur terus bergerak ke arah timur laut dan menjadi India.
- ▶ Satu bagian lagi terpecah menjadi dua, yaitu bagian timur terus bergerak ke arah timur laut, dan pecahan bagian barat terus bergerak ke arah selatan.

### Pedoman Penskoran Soal Latihan Unit 1

#### Keterangan Bobot Skor Pilihan Ganda

1. Salah/tidak dijawab, skor 0, Benar skor 1
2. Jumlah skor total adalah 10

#### Keterangan Bobot Skor Uraian

1. Benar dan tepat, skor 4
2. Benar, tepat tapi kurang lengkap, skor 3
3. Lengkap tapi ada yang tidak tepat, skor 2
4. Jawaban salah, skor 1
5. Tidak dijawab, skor 0
6. Jumlah skor maksimum adalah 20

#### Pengolahan Nilai:

**Bobot Pilihan Ganda** : Uraian = 40% : 60% = 0,4 : 0,6

$$\text{Nilai Akhir} = 0,4 \times \left[ \frac{n1}{10} \times 100 \right] + 0,6 \times \left[ \frac{n2}{20} \times 100 \right]$$

Keterangan :

n1 = Jumlah benar Pilihan Ganda.

n2 = Jumlah skor benar uraian

## Penilaian dan Kunci Jawaban Unit 2

### Penugasan 2

1. Mengidentifikasi faktor-faktor menjadi negara maju dan membandingkan faktor tersebut dengan kondisi Indonesia

No	Negara Asia	Skor Faktor menjadi negara maju dan Pemanding dengan Indonesia	Maksimal Nilai	Nilai yang didapat
1	Tiongkok	Benar menjawab 4 atau lebih = 25 Benar menjawab 3 = 20 Benar menjawab 2 = 15 Benar menjawab 1 = 10 Menjawab namun salah semua = 5 Tidak menjawab sama sekali = 0	25	
2	Jepang	Benar menjawab 4 atau lebih = 25 Benar menjawab 3 = 20 Benar menjawab 2 = 15 Benar menjawab 1 = 10 Menjawab namun salah semua = 5 Tidak menjawab sama sekali = 0	25	
3	Arab Saudi	Benar menjawab 4 atau lebih = 25 Benar menjawab 3 = 20 Benar menjawab 2 = 15 Benar menjawab 1 = 10 Menjawab namun salah semua = 5 Tidak menjawab sama sekali = 0	25	
<b>Jumlah</b>				

2. Penilaian Individu mengenai pendapat peserta didik kemungkinan Indonesia menjadi negara maju setelah membandingkan faktor-faktor yang sudah di tuliskan di atas.

No	Jawaban	Panduan Penilaian	Maksimal Nilai	Nilai yang didapatkan
1	Uraian pendapat pribadi	Benar dan tepat = 25 Benar, tepat tapi kurang lengkap = 15 - 24 Lengkap tapi ada yang tidak tepat = 5 - 15 Jawaban salah = 1 - 5 Tidak dijawab = 0	25	
<b>Jumlah</b>				

Nilai Anda = Penilaian tabel 1 + Penilaian tabel 2

Interval Nilai	Keterampilan
$90 < X \leq 100$	A
$80 < X \leq 90$	B
$70 < X \leq 80$	C
$0.00 < X \leq 70$	D

### Kunci Jawaban Pilihan Ganda

No	Kunci Jawaban	No	Kunci Jawaban
1	C	6	B
2	A	7	C
3	D	8	A
4	C	9	C
5	A	10	A

### Pembahasan :

#### A. Pilihan Ganda

Pembahasan Pilihan Ganda

1. Jepang terletak di Asia Timur
2. Penduduk asli Jepang adalah bangsa Ainu
3. Sektor andalan negara Jepang antara lain : perikanan, perindustrian, dan perdagangan. Pertambangan bukan merupakan sector andalan Jepang karena minimnya pertambangan di Jepang.
4. Arab Saudi terletak di Asia barat daya dimana wilayahnya mayoritas adalah gurun.
5. Ibu kota negara Tiongkok terletak di kota Beijing
6. Bunga nasional negara Tiongkok adalah Teratai, Bunga Peony, Berri Goji dan Saflower

7. Bentuk pemerintahan negara Tiongkok adalah republik komunis.
8. Suku asli India adalah suku Arya yang mayoritas mendiami India bagian Utara dan suku Dravida yang mayoritas mendiami India bagian Selatan.
9. Berikut merupakan kota-kota terpadat di India yakni, New Delhi, Madras, Kalkuta, dan Mumbai. Sedangkan Bengaluru tidak termasuk menjadi kota padat di India.
10. Perekonomian Arab Saudi bertumpu pada sektor pertambangan minyak.

#### B. Uraian

1. Penduduk Jepang terkenal akan keuletan, rajin dan disiplin. Tidak hanya dalam hal pekerjaan, namun juga diterapkan dalam kehidupan sehari-hari. Jepang juga memiliki budaya malu yang sangat tinggi sehingga apa yang mereka kerjakan dan menjadi tanggung jawab mereka akan mereka kerjakan dengan sepenuh hati
2. Batas-batas negara Tiongkok
  - ▶ Sebelah utara berbatasan dengan Mongolia dan Rusia.
  - ▶ Sebelah timur berbatasan dengan Laut Tiongkok Timur, Laut Timur, Korea Utara dan Laut Kuning.
  - ▶ Sebelah selatan berbatasan dengan Nepal, Bhutan, India, Myanmar, Laos, dan Vietnam.
  - ▶ Sebelah barat berbatasan dengan Pakistan, Kazakstan, Tadzikistan, dan Afganistan.
3. Pembangunan di India lebih banyak terfokuskan di kota-kota besar saja. Karena jumlah penduduk yang besar dan tingkat pendidikan yang rendah, maka masih banyak penduduk India yang masih hidup dibawah garis kemiskinan.
4. Negara Arab Saudi merupakan negara yang menggunakan sistem Kerajaan atau Monarki. Hukum yang digunakan negara Arab Saudi merupakan hukum syariat Islam.
5. Indonesia akan menjadi negara maju jika dapat mengoptimalkan pengelolaan sumber daya alam dan sumber daya manusia.



## PEDOMAN PENSKORAN

### Keterangan Bobot Skor Pilihan Ganda

1. Jika dijawab benar, skor 1
2. Jika dijawab salah/tidak dijawab, skor 0
3. Jumlah skor total adalah 10

### Keterangan Bobot Skor Uraian

1. Jawaban benar dan tepat, skor 4
2. Jawaban benar, tepat tapi kurang lengkap, skor 3
3. Jawaban lengkap tapi ada yang tidak tepat, skor 2
4. Jawaban salah, skor 1
5. Tidak dijawab, skor 0
6. Jumlah skor maksimum adalah 20

## PENGOLAHAN NILAI

**Bobot Pilihan Ganda : Uraian = 40% : 60% = 0,4 : 0,6**

$$\text{Nilai Akhir} = 0,4 \times \left[ \frac{n1}{10} \times 100 \right] + 0,6 \times \left[ \frac{n2}{20} \times 100 \right]$$

Keterangan:

n1 = jumlah soal benar Pilihan Ganda

n2 = jumlah skor benar uraian

## Kriteria Pindah Modul

Setelah Anda mengerjakan soal latihan setiap unit, selanjutnya cocokkan dengan kunci jawaban yang sudah tersedia atau bahaslah bersama tutor pengampu mata pelajaran. Untuk mengetahui ketuntasan belajar anda, hitunglah tingkat penguasaan materi anda dengan menggunakan rumus sebagai berikut:

1. Nilai ketuntasan tiap unit

$$\frac{\text{Penugasan} + \text{jumlah skor pilihan ganda} + \text{jumlah skor essay}}{\text{jumlah skor maksimal Penugasan} + \text{pilihan ganda} + \text{essay}} \times 100$$

2. Nilai ketuntasan modul

$$\frac{\text{jumlah skor unit 1} + \text{jumlah skor unit 2}}{200} \times 100$$

Batas ketuntasan minimal adalah 75%. Jika pencapaian ketuntasan Anda 75% ke atas, maka Anda dinyatakan **TUNTAS**. Lanjutkan untuk mempelajari modul berikutnya.

Sebaliknya jika pencapaian ketuntasan Anda kurang dari 75%, maka Anda dinyatakan **BELUM TUNTAS**. Ulangi untuk mempelajari modul ini, terutama pada unit yang memperoleh nilai belum tuntas dan ulangi mengerjakan latihan soal, terutama yang Anda jawab belum benar sampai Anda mampu menjawab dengan benar. Jika pengulangan Anda telah mencapai batas minimal ketuntasan, maka silakan untuk melanjutkan mempelajari modul berikutnya

## Saran Referensi

Endarto, Danang, dkk. 2009. Ilmu Pengetahuan Sosial untuk SMP/MTs Kelas IX, Pusat Perbukuan Departemen Pendidikan Nasional

Kementerian Pendidikan dan Kebudayaan. 2015. Ilmu Pengetahuan Sosial Kelas IX untuk SMP/MTs, Pusat Perbukuan Departemen Pendidikan Nasional.

<https://portal-ilmu.com/>

## Daftar Pustaka

Feryanto, Agung, dkk. 2009 Ilmu Pengetahuan Sosial Kelas IX untuk SMP/MTs, Pusat Perbukuan Departemen Pendidikan Nasional.

Legawa, I Wayan, dkk, IPS SMP/MTs Kelas IX Edisi 4, 2008, Pusat Perbukuan Departemen Pendidikan Nasional

Kementerian Pendidikan dan Kebudayaan. 2015. Ilmu Pengetahuan Sosial Kelas IX untuk SMP/MTs, Pusat Perbukuan Departemen Pendidikan Nasional

Sugharyanto, 2011, Buku Seri IPS Geografi & Sosiologi 1 (Kelas IX), Penerbit: Quadra

Sutarto, dkk, IPS untuk SMP/MTs Kelas IX, 2008, CV Rizki Mandiri, Kementerian Pendidikan Nasional

<https://portal-ilmu.com/negara-republik-rakyat-cina/>

<https://portal-ilmu.com/negara-india/>

<https://ilmupengetahuanumum.com/profil-negara-india/>

<https://id.thpanorama.com/articles/biologa/flora-y-fauna-de-china-especies-representativas.html>

<https://id.thpanorama.com/articles/biologa/flora-y-fauna-de-la-india-caractersticas-principales.html>

## Tentang Penulis

### **Sulaiman Hasan, S.Pd.,M.Pd.**

Pria kelahiran Lamongan, 17 Mei 1972 ini berprofesi sebagai Pamong Belajar sejak tahun 1998 di BP-PAUD Dan Dikmas Jawa Timur, Jl. Gebang Putih 10 Sukolilo Surabaya, Telp/Fax. (031) 5925972 – 5945101.

Saat ini jabatan beliau Pamong Belajar Madya dan pangkat/golongan Pembina/IVa. Lulusan Sarjana Pendidikan Matematika IKIP Surabaya (1997) dan Program Studi Teknologi Pembelajaran Pasca Sarjana Universitas Adibuana Surabaya (2006) ini telah menyusun media dan buku-buku pendidikan kesetaraan diantaranya:

1. Media Pembelajaran Interaktif Mata Pelajaran Matematika Kejar Paket C tema Bangun Ruang, 2006,
2. Penyelenggaraan Kejar paket C dengan Pola SKK (Satuan Kredit Kompetensi), 2008,
3. Pembelajaran Integrasi Vokasi Bidang Pertanian Pada Pendidikan Kesetaraan Paket C (Pertanian Organik), 2009
4. Buku Pelajaran MATEMATIKA Paket B Tingkatan IV Derajat Terampil II, 2009,
5. Bahan Ajar MATEMATIKA setara SD Kelas IV dalam rangka Pembelajaran Paket A Pasca Melek Aksara Dengan Sistem Setoran Kompetensi (PASMA-SSK), 2015,
6. Pembelajaran Jarak jauh Paket C, 2016,
7. Modul 1 & 2 Sejarah Indonesia Paket C Kelas X, 2017, dan
8. Modul 9 & 10 Sejarah Indonesia Paket C Kelas XI, 2018.



### **Dra. Siti Fatonah**

NIP. 196507052005012001, lahir di Tuban 5 Juli 1965. Pada saat ini bekerja di Balai Pengembangan Pendidikan Anak Usia Dini dan Pendidikan Masyarakat (BP-PAUD dan Dikmas ) Jawa Timur, Kementerian Pendidikan dan Kebudayaan RI, yang beralamat di Jln. Gebang Putih No.10 Surabaya 60117 Telp. (031) 5945972, 5945101, Fax.5953787, sebagai tenaga fungsional Pamong Belajar, pangkat III/d, golongan ruang Penata Tingkat I.

Menempuh pendidikan tinggi di FKIP Universitas Darul Ulum Jombang, S1 jurusan PLS dan memperoleh gelar Sarjana Pendidikan (Dra) pada tahun 1989. Pada tahun 2011 melanjutkan studi Pasca Sarjana di Universitas Adi Buana Surabaya jurusan Teknologi Pendidikan, lulus tahun 2013 dengan gelar M.Pd.

Pengalaman bekerja sebagai guru di sekolah swasta, dan pada tahun 2003 menjadi Tenaga Lapangan Dikmas di Kecamatan Montong Kabupaten Tuban. Pada saat ini bekerja sebagai Tenaga Fungsional Pamong Belajar Kementerian Pendidikan dan Kebudayaan, Balai Pengembangan Pendidikan Anak Usia Dini dan Pendidikan Masyarakat (BP-PAUD dan Dikmas) Jawa Timur. Dalam menjalankan tugas sebagai Pamong Belajar tugas yang diemban adalah melakukan Kegiatan Belajar Mengajar(KBM), melakukan pengkajian, serta pengembangan Model di bidang PAUDNI.

Penulisan pengembangan profesi yang pernah dilakukan antara lain Pengembangan Media Pembelajaran Paket A BPPNFI Reg. IV tahun 2006, Pengembangan Model Arisan Anjongsana Sebagai Kendaraan Sosial Untuk Pelestarian Keaksaraan Fungsional BPPNFI Reg. IV tahun 2007, Kajian Fungsionalisasi Pembelajaran Keaksaraan Kontekstual BPPNFI Reg. IV tahun 2008, Pengembangan model Keaksaraan Kewirausahaan Sosial pada Masyarakat Sekitar Hutan BPPNFI Reg. IV tahun 2010, Pengembangan model PKBM Sebagai Sentra Pemberdayaan TKI BPPNFI Reg. IV tahun 2011, Pengembangan Model Kecakapan Sosial bagi Lansia BPPAUDNI REG. II Surabaya tahun 2012, Pengembangan Model KTSP Paket A Kelas V dengan Sistem Setoran Kompetensi BP-PAUD dan Dikmas Jawa Timur tahun 2016, Pengembangan Model Pemberdayaan Perempuan melalui Pemanfaatan Potensi Wisata dan Lingkungan BP-PAUD dan Dikmas Jawa Timur tahun 2017, Pengembangan Model Pembelajaran Mandiri Paket B Kelas IX Mapel IPS BP-PAUD dan Dikmas Jawa Timur Tahun 2018. Alamat yang bisa dihubungi bisa via email: [sfatonah64@ymail.com](mailto:sfatonah64@ymail.com), atau via HP/ WA: 085733415066, atau HP. 082122616824.



## **Aminullah, S.Pd., M.A**

Dilahirkan di lembah Gunung Tambora di Kabupaten Bima, NTB pada 27 Maret 1973. Pendidikan dasar dan menengah ditempuhnya di NTB, Kemudian menyelesaikan S1 pada Jurusan Pendidikan Luar Sekolah IKIP Malang tahun 1997. Tahun 2001 ia diterima menjadi Tenaga Fungsional Pamong Belajar di PBKB Jawa Timur. Kemudian pada tahun 2006 memperoleh beasiswa master dari International Fellowship Program - *Ford Foundation di School for International Training (SIT Graduate Institute), Vermont USA* dan selesai tahun 2008 pada jurusan Pengembangan Masyarakat dan Aksi Sosial.



Selama menjadi pamong belajar telah mengembangkan model, bahan ajar, dan media pembelajaran di bidang Pendidikan Nonformal antara lain:

1. Model Pembelajaran Quantum Learning pada Program Keaksaraan Fungsional (2003);
2. Model Keaksaraan Ekonomi pada Masyarakat Sekitar Hutan (2009);
3. Model Keaksaraan Kewirausahaan Sosial (2010);
4. Model Pembelajaran Batung Bingar (2011),
5. Model Keaksaraan Usaha Mandiri Bisnis Sosial (2014);
6. Model Pembelajaran Bahasa Inggris Zestful Learning (2015);
7. Teknologi Tepat Guna KIT Batung Bingar (2016); dan
8. Model Pembelajaran Paket A Pasca-melek Aksara dengan Sistem Setoran Kompetensi (SSK) setara Kelas V dan VI (2017).